

X CLASS
STUDY MATERIAL

SOCIAL



Material Prepared by the following Members

PAPER – I

1. **Sri. B. Sekhar (Lessons : 1, 6, 9)**
– Z.P.H.S. Brahmana Kotkur.
2. **Smt. Vajidunnisa Beebi**
(Lessons : 3, 5, 9)
– Z.P.H.S. B.N.K.
3. **Smt. Khansinbi**
(Lessons : 11, 10, 12)
– Z.P.H.S. *v*lindakonda
4. **Sri. H. Satyanarayana Rao**
(Lessons : 2, 4, 7)
Z.P.H.S. Chapirevula

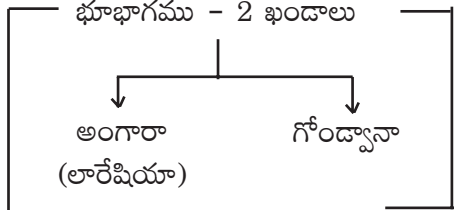
PAPER – II

5. **Sri. Rajaiah**
– G.H.S. Koilakuntla
6. **Sri. Veknata Ramudu**
– G.H.S. Koilakuntla
7. **Sri Maikhel**
– G.H.S. Koilakuntla
Z.P.H.S – Dhone

1. భారతదేశము - భౌగోళిక స్వరూపాలు

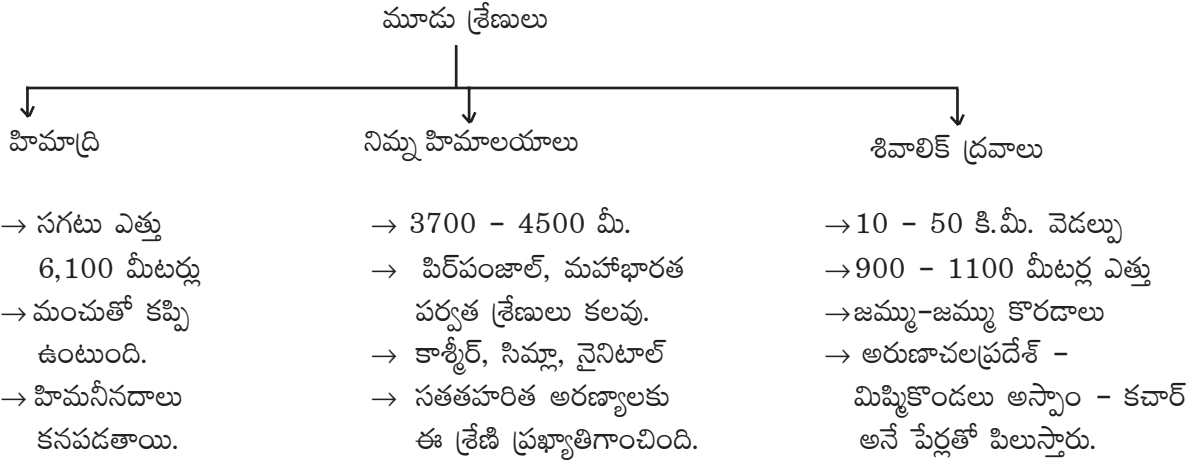
I. ఒక మార్కు ప్రశ్నలు

1. భారతదేశ ప్రామాణిక రేఖాంశము ఏది ?
జ. $82\frac{1}{2}$ తూర్పురేఖాంశము (అలహాబాదు)
2. గ్రీనిచ్ ప్రామాణిక సమయానికి భారతదేశ ప్రామాణిక కాలామానానికి మధ్య తేడా ?
జ. $5\frac{1}{2}$ గంటల ముందు
3. భారతదేశ అక్షాంశ, రేఖాంశాలు ఏవి ?
జ. 8.4 - 37.6 ఉత్తర అక్షాంశాలు
68.7 - 97.25 తూర్పు రేఖాంశాలు
4. భారతదేశం ఏ భాగంలోనిది ?
జ. గోండ్వానా



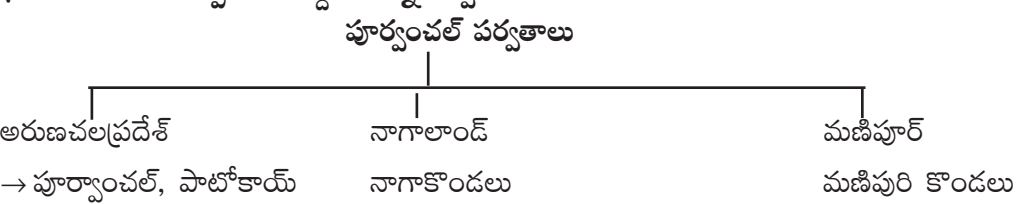
5. భారతదేశ భూభాగాన్ని ఎన్ని భౌగోళిక స్వరూపాలుగా వర్గీకరించారు ?
జ. 1) హిమాలయాలు 2) గంగ - సింధు మైదానము 3) ద్వీపకల్ప పీఠభూమి 4) తీర మైదానాలు 5) ఎడారిప్రాంతము 6) దీవులు
6. హిమాలయాలు ఎన్ని రకాలు ?

జ.



7. డూన్ అనగానేమి ?
జ. నిమ్న హిమాలయాలు, శివాలిక్ శ్రేణుల మధ్య ఉండే లోయలను స్థానికంగా 'డూన్'లు అందురు.
ఉదా : డెహ్రాడూన్, కోట్లీడున్, ప్లాటీడూన్
8. భారతదేశానికి తూర్పు సరిహద్దుగా ఉన్న పర్వతాలు ఏవి ?

జ.



9. మధ్య ఉన్నత భూములను ఏమంటారు ?

జ. మల్వా పీఠభూమి

10. నీలగిరి పర్వతాలలో ఎత్తైన శిఖరము ఏది ?

జ. దొడ్డబెట్ట

11. పర్వతాలు - ఎత్తైన శిఖరాలు ఏవి ?


- జ. 1. నీలగిరి కొండలు - దొడ్డబెట్ట (2637 మీ)
 2. హిమాలయాలు - ఎవరెస్ట్ (8848 మీ)
 3. అన్నామలై కొండలు - అనైముడి (2695 మీ.)
 4. తూర్పు కనుమలు - అరోమకొండ (1680 మీ.) (చింతపల్లి)

12. దేశంలో అత్యంత పొడవైన కాలువ ఏది ?

జ. ఇందిరాగాంధీ కెనాల్ (650 కి.మీ.) (రాజస్థాన్)

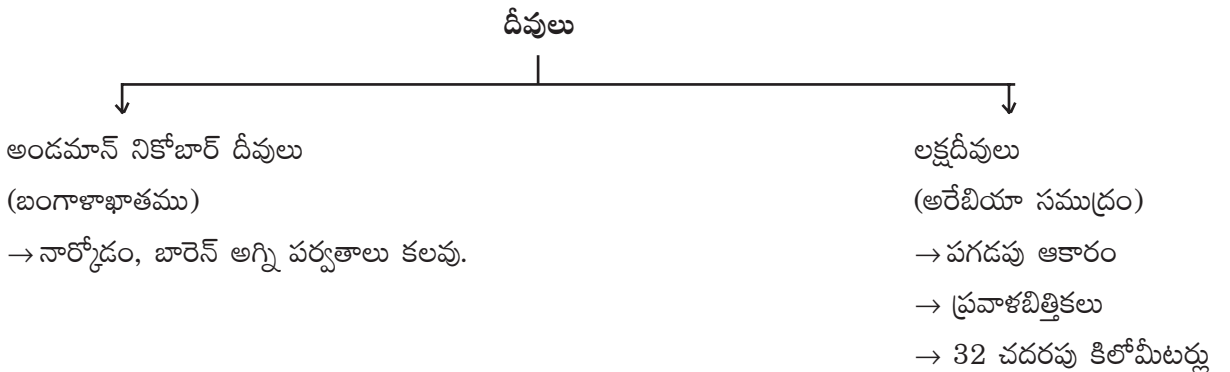
13. తీరమైదానాలకు వివిధ రాష్ట్రాలలో గల పేర్లు ఏవి ?

జ. **తీరమైదానము**



14. భారతదేశంలోని దీవులు ఏవి ?

జ.



2 మార్కుల ప్రశ్నలు

1. భారతదేశంలోని మైదాన ప్రాంతాలు వ్యవసాయానికి దోహదపడినంతగా పీఠభూమి ప్రాంతాలు తోడ్పడవు. దీనికి కారణాలు ఏమిటి ? (AS 1) (అవగాహన)

జ. 1) మైదాన ప్రాంతాలు (నేలలు) అధిక దిగుబడికి, భూసారానికి పెట్టింది పేరు. పీఠభూమి ప్రాంతాలు సారవంతమైనవి కావు.

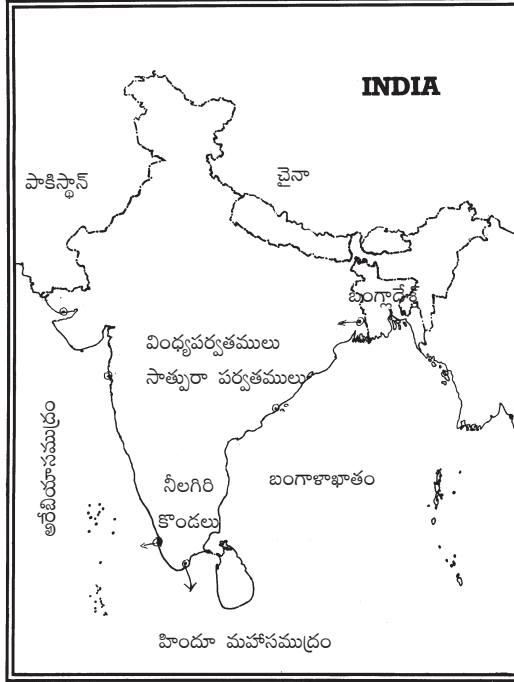
జ. ఎ) భారతదేశం మధ్య గుండా వెళ్తున్న ప్రధా అక్షాంశము ఏది ?

కర్కటరేఖ

బి) భారతదేశానికి పశ్చిమాన ఉన్న సరిహద్దులు ఏవి ?

పాకిస్తాన్

5. క్రింద ఇచ్చిన పటాన్ని పరిశీలించి ప్రశ్నలకు సమాధానములు వ్రాయుము.



జ. ఎ) భారతదేశాన్ని రెండు భాగాలుగా విభజిస్తున్న పర్వతాలు ఏవి ?

వింధ్య, సాత్పురా పర్వతాలు

బి) భారతదేశానికి తూర్పున ఉన్న సముద్రం ఏది ?

బంగాళాఖాతము

6. భారతదేశములో కర్కటరేఖ పోయే రాష్ట్రాలు ఏవి ?

జ. 8 రాష్ట్రాలు :

1) గుజరాత్ 2) రాజస్థాన్ 3) మధ్యప్రదేశ్ 4) ఛత్తీస్‌ఘడ్ 5) జార్ఖండ్ 6) పశ్చిమబెంగాల్ 7) త్రిపుర

8) మిజోరాం

తక్కువ దూరం → రాజస్థాన్

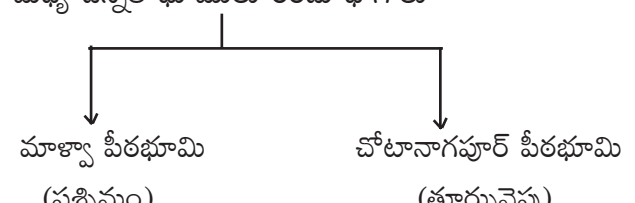
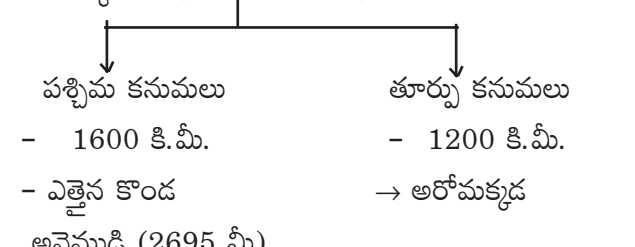
ఎక్కువ దూరం → మధ్యప్రదేశ్

7. ప్రపంచంలో అతి పెద్ద ద్వీపకల్పం - సౌదీ అరేబియా. రెండవ అతి పెద్ద ద్వీపకల్పం ఇండియా 'భారతదేశాన్ని ద్వీపకల్పం' అన్న పదాన్ని తరచుగా ఎందుకు ఉపయోగిస్తాము ? (AS 1)

జ. మూడు వైపులా నీరు ఉండి ఒకవైపు భూభాగం ఉన్న భూభాగాన్నే "ద్వీపకల్పం" అంటారు.

భారతదేశానికి తూర్పున - బంగాళాఖాతం ; పడమర - అరేబియా సముద్రం ; దక్షిణం - హిందూమహాసముద్రం

2. ఈక్రింది పట్టికను పరిశీలించి ప్రశ్నలకు సమాధానములు వ్రాయండి. (సమాచారనైపుణ్యాలు) (AS 3)

క్రమ సంఖ్య	విషయం	వివరణ
1.	మధ్య ఉన్నత భూములు	- గంగా మైదానానికి దక్షిణాన నర్మదా నదికి ఉత్తరాన ఉన్నది. - మధ్య ఉన్నత భూములు రెండు భాగాలు 
2.	దక్కన్ పీఠభూమి	- నర్మద నదికి దక్షిణాన ఉన్న త్రిభుజాకారపు ప్రాంతము. దక్కన్ పీఠభూమి - రెండు భాగాలు 

A. గంగా మైదానానికి దక్షిణా, నర్మదనదికి ఉత్తరాన విస్తరించినది ఏది?

జ. మధ్య ఉన్నత భూములు

B. పశ్చిమ కనుమలలో ఎత్తైన శిఖరము ఏది ?

జ. అనైముడి (2695 మీ)

C. దక్కన్ పీఠభూమి ఏ ఆకారంలో ఉంది ?

జ. త్రిభుజాకారం

D. ఉత్తర భారతదేశంలో పశ్చిమం వైపు విస్తరించిన పీఠభూమి ఏది ?

జ. మాళ్వా పీఠభూమి

3. హిమాలయాలు ప్రస్తుతం ఉన్న స్థానంలో లేకపోతే భారత ఉపఖండ శీతోష్ణస్థితులు ఎలా ఉండేవి ?

(AS 4 సమాచార నైపుణ్యాలు)

జ. 1) హిమాలయాల వల్ల శీతోష్ణస్థితి అనేక విధాలుగా ప్రభావితం అవుతుంది.

2) చల్లటి గాలులను అడ్డుకుంటాయి. హిమాలయాలు లేకపోతే ఉత్తరప్రాంతంనుంచి తీవ్ర చలిగాలులు వీచేవి.

3) ఋతుపవనలు ఉండేవి కావు.

4) జీవనదులు ఉండేవికావు.

5) సారవంతమైన మైదాన ప్రాంతాలు ఏర్పడేవి కావు (హిమాలయనదులు కారణం)

- 6) ఉత్తర ప్రాంతము పొడిగాఉండేది.
- 7) వేసవి విడిది ప్రాంతాలు ఉండేవి కావు. (సిమ్లా, నైనిటాల్, ముస్సోరి)
- 8) భారతదేశం ఉష్ణమండల ఎడారిగా మారిపోయేది.

4. “భారతీయులు నివసించే భూభాగంలో భౌగోళిక స్వరూపాలలో ఎంతో వైవిధ్యత ఉంది.”

పై వ్యాఖ్యముపై నీ అభిప్రాయమేమి ?

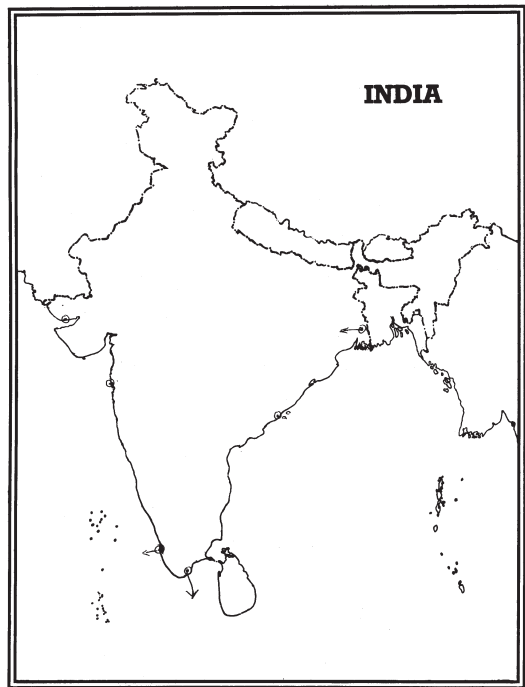
- జ. 1) భారతదేశం హిమాలయాల నుంచి ప్రవహిస్తున్నాయి.
- 2) కొన్ని నదులు పశ్చిమ కనుమలలో పుట్టి వర్షాధారనదులతో సాగుచేయబడుతున్నాయి.
- 3) కొన్ని ప్రాంతాలలో సారవంతమైన మైదానాలు ఉన్నాయి.
- 4) మరికొన్ని ప్రాంతాలలో పీఠభూమి, కొండలతో ఉంది.

5. భారతీయ వ్యవసాయాన్ని హిమాలయాలు ఏ రకంగా ప్రభావితం చేస్తున్నాయి ? (AS 6)

- జ. 1) మధ్య ఆసియా నుండి వీచే చల్లటిగాలుల నుండి పంటలకు నష్టం వాటిల్లకుండా చేస్తున్నాయి.
- 2) వర్షాలు రావడానికి హిమాలయాలే కారణం.
- 3) హిమాలయాల్లో పుట్టే జీవనదుల వల్ల సంవత్సరంలో అన్ని పంటపొలాల్లో కూడ నీరు సమృద్ధిగా అందివున్నాయి.
- 4) ఒండ్రు నేలలు ఏర్పడటానికి హిమాలయనదులే కారణం.
- 5) హిమాలయాలు లేకుంటే కరువులు ఏర్పడేవి.

6. మీకు ఇవ్వబడిన భారతదేశ పటంలో ఈ క్రింది వానిని గుర్తించండి. (AS 5)[Mapping Skills]

5M



12. తూర్పు కనుమల్లో ఎత్తైన శిఖరం (అరోమకొండ)
13. లక్షదీవులు భౌగోళిక విస్తీర్ణం..... (32 చ.కి.మీ.)
14. భారతదేశ ప్రామాణిక రేఖాంశము నగరం గుండా పోతుంది. (అలహాబాద్)
15. IST అనగా (Indian Standard Time)
16. GMT అనగా (Greenwich Mean Time)
17. ఇందిరాగాంధీ కాలువ పొడవు (650 కి.మీ.)
18. ప్రవాళాభిత్తికలలో ఏర్పడు దీవులు (లక్షదీవులు)
19. రెండు నదుల మధ్య ప్రాంతాన్ని అంటారు. (అంతర్వేది)
20. నార్కోడం, బారిక్ దీవులు వల్ల ఏర్పడినాయి. (అగ్నిపర్వతాల)

జతపరచండి.

ఈ క్రింది వాటిని జతపరచుము ($1/2$ మా.)

$5 \times 1/2 = 2 1/2 M$

- | | | | |
|-----------|------------------------|-----|-------------------|
| 1. | A | | B |
| | i) మాక్డోక్ దిపెస్లోయ | () | a) మేఘాలయా |
| | ii) అంగారా | () | b) అస్సాం |
| | iii) సిమ్లా | () | c) జమ్ముకాశ్మీర్ |
| | iv) సోపాన వ్యవసాయము | () | d) అరుణాచలప్రదేశ్ |
| | v) పూర్వాంచల్ పర్వతాలు | () | e) తమిళనాడు |
| | | | f) త్రిపుర |
| | | | g) మిజోరాం |
| | | | h) నాగాలాండ్ |
| 2. | A | | B |
| | i) జమ్ముకొండలు | () | a) మేఘాలయా |
| | ii) మిప్పికొండలు | () | b) అస్సాం |
| | iii) కచార్ కొండలు | () | c) జమ్ముకాశ్మీర్ |
| | iv) పశనికొండలు | () | d) అరుణాచలప్రదేశ్ |
| | v) ఖాసీకొండలు | () | e) తమిళనాడు |
| | | | f) త్రిపుర |
| | | | g) మిజోరాం |
| | | | h) నాగాలాండ్ |

- | | | | |
|----|---------------|---------|--------------------|
| 6. | A | | B |
| | i) దొడ్డబెట్ట | () | a) సిక్కిం |
| | ii) ఆరోమకొండ | () | b) నీలగిరి కొండలు |
| | iii) అనైముడి | () | c) హిమాలయ పర్వతాలు |
| | iv) ఎవరెస్ట్ | () | d) తూర్పు కనుమలు |
| | v) కాంచనగంగా | () | e) అన్నామలై కొండలు |
| | | | f) పశ్చిమ కొండలు |
| | | | g) ఆరావళి పర్వతాలు |
| | | | h) ఉత్తరాఖండ్ |

జవాబులు

- | | | | | | |
|----|---|---|---|---|---|
| 1. | c | e | d | a | b |
| 2. | c | d | b | e | a |
| 3. | b | c | d | e | a |
| 4. | c | e | d | a | b |
| 5. | c | d | e | b | a |
| 6. | b | d | e | c | a |

2. అభివృద్ధి భావనలు

I. లక్ష్యాత్మక పశ్నలు

1. మానవాభివృద్ధి పరిణామక్రమం ప్రకారము పారిశ్రామికీకరణ ప్రారంభమైన కాలము
(క్రీ.శ. 1600 శతాబ్దం/400 సం॥రాలు)
2. భారత ప్రభుత్వము ఇటీవల తమిళనాడులో స్థాపించిన అణువిద్యుత్ కేంద్రము గల ప్రాంతము
(తిరుణ్వూలి జిల్లాలోని కుదంకళం ప్రాంతము)
3. కుదంకుళం అణువిద్యుత్ కేంద్ర స్థాపన ప్రధాన ఉద్దేశ్యము (నిరంతరం పెరుగుతున్న విద్యుదవసరాలు తీర్చడం)
4. కుదంకళం అణువిద్యుత్ కేంద్ర స్థాపనకు వ్యతిరేకంగా ప్రజలు ఉద్యమించటానికి కారణం
(ప్రజల భద్రత, రక్షణ, జీవకోపాదుల పరిరక్షణల కొరకు)
5. ప్రజలు అవసరాలు తీర్చి, వారి ఆకాంక్షలను పూర్తిచేయడాన్ని ఇలా పేర్కొనవచ్చు ? (అభివృద్ధి)
6. అభివృద్ధి అనేది ఒక (సంక్షిప్తమైన అంశము)
7. అభివృద్ధి లేదా ప్రగతి పట్ల అందరికీ (ఒకే రకమైన భావన ఉండదు)
8. విభిన్న వ్యక్తులకు విభిన్నమైన అభివృద్ధి లక్ష్యాలు ఉండవచ్చు.
9. ప్రజలు అందరూ కోరుకునేది (క్రమం తప్పని మెరుగైన ఆదాయము)
10. ఆదాయమే కాక అభివృద్ధి ద్వారా ప్రజలు కోరుకునే అంశాలు
(స్వేచ్ఛ, సమానత, భద్రత, ఇతరుల నుండి గౌరవాన్ని పొందడం)
11. అభివృద్ధి కొరకు ప్రజలు పరిగణనలోనికి తీసుకునేది (మిశ్రమలక్ష్యాలు)
12. దేశాలను పోల్చటానికి ముఖ్యమైన ప్రామాణికం (నాటి ఆదాయము)
13. జాతీయ దాయం దేనిని సూచిస్తుంది ? (దేశం మొత్తము ఆదాయాన్ని)
14. దేశంలోని ప్రజల స్థితిగతులను తెలుసుకోవడానికి తోడ్పడేది (నగదు ఆదాయము లేదా తలసరి ఆదాయము)
15. దేశం మొత్తం ఆదాయాన్ని దేశ జనాభాతో భాగిస్తే వచ్చేది (తలసరి ఆదాయం)
16. ప్రపంచ బ్యాంక్ దేశాలను వర్గీకరించటానికి ఉపయోగించిన ప్రామాణికం (తలసరి ఆదాయం)
17. 12,6000 డాలర్ల కంటే ఎక్కువ తలసరి ఆదాయం గల దేశాలు(అభివృద్ధి చెందిన లేదా అధిక ఆదాయం గల దేశాలు)
18. 1,035 డాలర్ల కంటే తక్కువ తలసరి ఆదాయం గల దేశాలు
(వెనుకబడిన దేశాలు / తక్కువ ఆదాయపు దేశాలు)
19. సగటు జాతీయ ఆదాయము లేదా తలసరి ఆదాయము వివిధ దేశాలను పోలుచటకు అనుకూలంగా ఉన్నా ప్రజల మధ్య అంతరాలను వెల్లడించదు.

2. ఇందులో తోడ్పడిన ప్రధాన అంశాలు :

- a) ప్రభుత్వ పాఠశాలను ఏర్పాటుచేసి అందరికీ ఉచిత ప్రాథమిక విద్యను నిర్బంధముగా అందించటం వల్ల ప్రతి ఒక్కరికి విద్యా చేరువైంది.
- b) ప్రభుత్వము పాఠశాలలో అవసరమైన ఉపాధ్యాయులు, తరగతి గదులు, మరుగుదొడ్లు, త్రాగునీటి వసతి మొదలగు సౌకర్యాలను కల్పించి, కాలానుగుణంగా సదుపాయాలను మెరుగుపరచి విస్తరింపజేస్తూ ఉంది.
- c) అవసరమైన చోట మరిన్ని పాఠశాలలను ఏర్పాటు చేసి ఎక్కువ మంది ఉపాధ్యాయులను ఏర్పాటుచేసింది.
- d) దేశంలోని రాష్ట్ర ప్రభుత్వాలు ప్రతి విద్యార్థిపైన సగటున 1049రూపాయలు ఖర్చు పెడుతుండగా హిమాచలప్రదేశ్ రాష్ట్ర ప్రభుత్వము విద్యకు అధిక ప్రధాన్యతను ఇచ్చి 2005 రూపాయల సగటున ప్రతి విద్యార్థిపై ఖర్చుపెట్టి తల్లిదండ్రులకు నామమాత్రపు ఖర్చు అయ్యేలా చేసింది.
- e) అంతేగాక ప్రభుత్వము విద్య ఆవశ్యకతను గురించి విస్తృతంగా ప్రచారం చేసి బాలికా విద్యను ప్రోత్సహించినది.
- f) లింగ వివక్షత లేకండా చేసి స్త్రీ, పురుషులకు సమానంగా ఉద్యోగ అవకాశాలు కల్పించడం వలన ఎక్కువ మంది మహిళలు ఉద్యోగ అవకాశాలను పొందగలిగారు.
- g) ప్రతి మహిళ విద్య హక్కు ప్రాముఖ్యతను గమనించి తమ సంతానానికి మెరుగైన విద్యను అందించుటకు ప్రభుత్వ కార్యక్రమాలను విజయవంతం చేయడం జరిగింది. ఫలితంగా హిమాచలప్రదేశ్ లో విద్యాభివృద్ధి మెరుగ్గా ఉండడానికి కారణమయ్యింది.

3. మానవాభివృద్ధిని కొలవడానికి ఏ ఏ అంశాలను పరిగణనలోనికి తీసుకోవాలో చర్చించండి.

జ. మానవాభివృద్ధిని కొలవడానికి గాను పరిగణించవలసిన అంశాలలో ముఖ్యమైనవి :

1. తలసరి ఆదాయములో పెరుగుదల
2. మెరుగైన జీవన ప్రమాణస్థాయి
3. అక్షరాస్యత శాతంలో వృద్ధి
4. విద్య, వైద్య, ఆరోగ్య సౌకర్యాల కల్పన
5. ఉద్యోగ అవకాశాలు
6. పారిశుద్ధ్యము - పరిశుభ్రత
7. ధరల స్థాయి లేదా ప్రజల కొనుగోలుశక్తి స్థాయిలో పెరుగుదల
8. ప్రజాపంపిణీ వ్యవస్థ
9. సామాజిక అవసరాల కల్పన మొగగు అంశాలతో పాటు స్వేచ్ఛ, సమానత్వము, భద్రత, ఇతరుల నుండి గౌరవాన్ని పొందడం వంటి సామాజిక అంశాలలో పురోగతి సాధించినపుడు మాత్రమే మానవాభివృద్ధి స్థాయి పెరుగుతుందని చెప్పవచ్చు.

4. అయినప్పటికీ ఆడవారు బయట పనిచేయు ప్రదేశాలలో ఇంకా లింగవివక్షత కొనసాగుతూనే ఉంది.
5. మగవారు ఆడవారు ఒకే రకమైన పనిచేస్తున్నప్పటికీ కూలీల నిర్ణయంలో ఆడవారికి తక్కువ. మగవారికి ఎక్కువ వేతనాలు చెల్లించడం జరుగుతుంది.
6. గ్రామీణ వ్యవసాయ పనులలో కూలీల నిర్ణయంలో ఈ రకమైన లింగవివక్షత ఎక్కువ.
7. పరిశ్రమలలో సైతం ఈ రకమైన వివక్షత పనుల కేటాయింపులలో మనము చూడవచ్చు.
8. సేవారంగ కార్యక్రమాలలో స్త్రీలదే పైచెయ్యిగా కనపడుతుంది. ప్రస్తుతము డాక్టర్లు, ఉపాధ్యాయులు, లాయర్లు, బ్యాంకు ఆఫీసర్లు మొదలగు సర్వీసులలో లింగవివక్షత కనపడదు.
9. కాని స్త్రీలు పనిచేసే కార్యాలయాలలో మగవారు ఆడవారి పట్ల అసభ్యకరంగా ప్రవర్తించడము వంటివి ఇంకా లింగవివక్షత కారణంగా కొనసాగుతున్నాయి.

7. విద్య హక్కు చట్టము బాలలకు మరియు మానవాభివృద్ధికి ఎటువంటి ప్రాధాన్యత ఇస్తుందో చర్చించండి.

- జ. 1. భారతదేశంలో పిల్లల ప్రయోజనాలను దృష్టిలో పెట్టుకొని విద్యా హక్కు చట్టం 2008ని ప్రవేశపెట్టారు.
2. ఈ చట్టము ప్రకారము 6 నుండి 14 సం॥రాల లోపు పిల్లలందరికి ఉచిత, నిర్బంధ, ప్రాథమిక విద్య 1-4-2010 నుండి అమలులోకి వచ్చినది.
3. దీని ప్రకారము 14 సం॥రాల లోపు పిల్లలను పనికి పంపరాదు. వారి వారి వయస్సుకు తగిన తరగతిలో వారు విద్యను అభ్యసిస్తూ ఉండాలి. అని సూచిస్తుంది.
4. 14 సం॥రాల లోపు పిల్లలను బడిలో చేర్చుకోవడానికి ఎటువంటి రుసుములను వసూలు చేయడం కాని, పరీక్షలు నిర్వహించటం కాని చేయరాదు.
5. పిల్లలలోని అంతర్గత నైపుణ్యాలను వెలికితీయుటకు పాఠశాల ముఖ్యమైన పాత్ర పోషించాలి.
6. పిల్లలను శారీరకంగా గాని మానసికంగా గాని హింసించరాదు. మరియు ఎటువంటి వివక్షతను చూపరాదు.
7. విద్య అభివృద్ధిలో ఒక భాగం కనుక పాఠశాల వయస్సులో పిల్లలు చదువుకోవటం వలన అది మానవాభివృద్ధిని పెంచుతుంది.

3. ఉత్పత్తి - ఉపాధి

I. ఖాళీలను పూరించండి.

1. ఉత్పత్తితో సమానంగా సేవారంగంలో ఉపాధి (పెరగలేదు)
2. రంగంలోని కార్మికులు వస్తువులను ఉత్పత్తి చెయ్యరు. (సేవా)
3. రంగంలోని కార్మికులను ఉద్యోగభద్రత ఉంటుంది. (వ్యవస్థీకృత)
4. మనదేశ కార్మికులలో శాతం అవ్యవస్థీకృత రంగంలో పనిచేస్తున్నారు. (ఎక్కువ)
5. ఎక్కువగా సహజ ప్రక్రియలనుపయోగించి రంగంలో వస్తువులు ఉత్పత్తి చేస్తారు. (ప్రాథమిక)
6. స్థూల జాతీయోత్పత్తి అనునది ఒక సంవత్సరంలో ఉత్పత్తి చేసిన మొత్తం విలువ
(అన్ని అంతిమ వస్తువుల సేవల)
7. 2009-10 స్థూల జాతీయోత్పత్తిలో సేవారంగం వాటా (20-30 శాతం మధ్య)
8. ఆర్థిక వ్యవస్థ ప్రధానంగా రంగాలుగా విభజించబడింది. (మూడు)
9. G.D.P. ని విస్తరించుము. (స్థూల దేశీయోత్పత్తి (Gross Domestic Product))
10. వ్యవసాయం పరిశ్రమలు సేవలు అను మూడు రంగాల ఉత్పత్తి కలిపితే వస్తుంది. (G.D.P.)
11. వ్యాపారం వాణిజ్యం రంగానికి ఉదాహరణ. (సేవా)
12. గనులు అడవులు రంగం. (ప్రాథమిక)
13. ఇప్పటికీ ప్రధాన ఉపాధి రంగం. (ప్రాథమిక (వ్యవసాయరంగం))
14. కొరియర్ బాయ్ రంగానికి చెందిన వారు. (సేవా)
15. టైర్లు వస్తువులు. (మాధ్యమిక)
16. మనదేశంలో కార్మికులు వ్యవస్థీకృతరంగంలో పనిచేసారు. (8%)
17. మనదేశంలో కార్మికులు అవ్యవస్థీకృత రంగంలో పనిచేసారు. (92%)
18. రంగంలో ఉపాధి పెరిగితే అభివృద్ధి జరిగినట్లుగా ఉత్పాదక కార్యక్రమాలలో పనిచేస్తున్నారు. (వ్యవస్థీకృత)
19. 2011 జనాభా లెక్కల ప్రకారం 120 కోట్ల జనాభాలో మంది ఉత్పాదక కార్యక్రమాలలో పనిచేస్తున్నారు. (46 కోట్ల)
20. 1972-73 - 2009-10 మధ్య G.D.P.లో వ్యవసాయ రంగం వాటా (గణనీయంగా క్షీణించింది)
21. కంటికి కనబడని అల్ప ఉపాధిని నిరుద్యోగం అంటారు. (ప్రచ్ఛన్న)

22. నిరుద్యోగం లోని వారు వేరే పనులకు వెళ్ళినా పోయినా ముందున్న ఉత్పత్తిలో మార్పు ఉండదు. (ప్రచ్ఛన్న)
23. గత 50 సంవత్సరాలలో అభివృద్ధి చెందిన దేశాలలో రంగానికి ప్రాధాన్యత పెరుగుతున్నది. (సేవా)
24. స్త్రీ పురుషుల నిష్పత్తిలో పోలిస్తే స్త్రీలు & రంగాలలో కొద్ది శాతం మాత్రమే ఉపాధి పొందారు. (పారిశ్రామిక, సేవా)
25. వ్యవస్థీకృత రంగంలో ఉపాధి అవకాశాలు పెరుగుతున్నాయి. (నిదానంగా)
26. భారత్ లో గ్రామీణ ప్రాంతాలలోని కుటుంబాలు సన్న చిన్నకారు రైతులకిందికి వస్తాయి. (80%)
27. స్థూల జాతీయోత్పత్తిలో వ్యవస్థీకృత రంగం వాటా (50%)
28. స్థూల జాతీయోత్పత్తిలో అవ్యవస్థీకృత రంగం వాటా (50%)
29. సేవారంగంలో ఉత్పత్తి 14 రెట్లు పెరిగింది. కానీ ఉపాధి మాత్రం రెట్లు పెరిగింది. (5)

ఒక మార్కు ప్రశ్నలు

1. స్థూల, జాతీయోత్పత్తి అనగానేమి ?

జ. ఒక సంవత్సర కాలంలో ఒక ఆర్థిక వ్యవస్థలో ఉత్పత్తి చేసిన అంత్య వస్తుసేవల విలువను స్థూల జాతీయోత్పత్తి అందురు.

2. ప్రాథమిక రంగం అని దేనిని అంటారు ?

జ. ఉత్పత్తి ప్రక్రియలో ప్రకృతి ప్రధాన పాత్ర వహించే వ్యవసాయం, మత్స్యపరిశ్రమ, అటవీ, గనులకు సంబంధించిన పనులు మొదలైన వాటిని ప్రాథమిక రంగం అంటారు.

3. ద్వితీయ రంగం అనగానేమి ?

జ. యంత్రాలు, పరికరాలు ఉపయోగించి వస్తువులు ఉత్పత్తి చేయటం, అనగా చిన్న చిన్న మధ్యతరహా, భారీపరిశ్రమలున్న ద్వితీయ రంగంగా పిలవబడతాయి.

4. వ్యవస్థీకృత రంగం అనగానేమి ?

జ. ఒక నిర్వచనీయమైన పద్ధతిలో ఉత్పత్తి ఉపాధి అవకాశాలు స్థిరత్వం. క్రమబద్ధమైన విధానాలు గల రంగాన్ని వ్యవస్థీకృత రంగం అంటారు. ఉదా : భారీ పరిశ్రమలు.

5. అవ్యవస్థీకృత రంగం అనగానేమి ?

జ. ఉద్యోగాలలో కానీ, జీతాలలో కానీ ఒక నియమిత పద్ధతి లేని కార్మికులు కర్షకులు ఉంటే చిన్న చిన్న సంస్థలుండే రంగాన్ని అవ్యవస్థీకృత రంగం అంటారు. ఉదా : చేనేత పరిశ్రమ, బీడీ పరిశ్రమ.

6. ఆర్థిక సంవత్సరం అనగానేమి ?

జ. ఏప్రిల్ ఒకటవ తారీఖు నుండి మార్చి 31 వరకు ఉన్న 12 నెలల కాలాన్ని ఆర్థిక సంవత్సరం అంటారు.

రెండు మార్కుల ప్రశ్నలు

1. వేరుగా ఉన్న దానిని గుర్తించండి. కారణం చెప్పండి. (AS 1)

అధ్యాపకుడు, నర్సు, గని కార్మికుడు, న్యాయవాది
పోస్టుమాన్, చెప్పులు కుట్టు వ్యక్తి, సైనికుడు, పోలీసు.

జ. గని కార్మికుడు ప్రాథమిక రంగానికి చెందినవారు. మిగిలిన ముగ్గురూ సేవారంగానికి చెందినవారు.

చెప్పులు కుట్టు వ్యక్తి ఇతడు అవ్యవస్థీకృత రంగానికి చెందుతాడు.

మిగిలిన ముగ్గురూ ప్రభుత్వ రంగంలో వ్యవస్థీకృత రంగంలో పనిచేస్తున్నారు.

2. క్రింది పట్టిక భారతదేశంలో 1972-73 లోనూ తిరిగి 2009 - 10 అంటే 37 ఏళ్ళ తర్వాత ఏ రంగంలో ఎంతమంది ఉపాధి పొందుతున్నారో తెలియజేస్తుంది. (AS 2)

సంవత్సరం	వ్యవసాయం	పరిశ్రమలు	సేవలు
1972-73	74%	11%	15%
2009-10	53%	22%	25%

పై పట్టిక ద్వారా మీరు గమనించిన ప్రధాన మార్పులు ఏవి ?

జ. పై పట్టిక ద్వారా 1972-73 నుంచి 2009-10 మధ్య అనగా దాదాపు 37 సం॥లు ఉపాధిలో వచ్చిన మార్పులు తెలుస్తున్నాయి.

1. వ్యవసాయరంగంలో ఉపాధి పొందిన వారి శాతం 21% తగ్గింది.

2. ద్వితీయరంగంలో ఉపాధి పొందిన వారి శాతం 11% పెరిగింది.

3. తృతీయ రంగంలో ఉపాధి పొందిన వారి శాతం 10% పెరిగింది.

4. ప్రాథమిక రంగంలో ఉపాధి అవకాశాలు తగ్గడం, ద్వితీయ తృతీయ రంగాలలో ఉపాధి అవకాశాలు పెరగటం ఆర్థికాభివృద్ధికి సూచిక.

3. ఆర్థిక వ్యవస్థలోని వివిధ రంగాలేవి ? (AS 1)

జ. ఆర్థిక వ్యవస్థలోని వివిధ కార్యకలాపాలను 3 రంగాలుగా విభజింపవచ్చును. అవి :

ఉదాహరణలు :

1. ప్రాథమిక రంగం - వ్యవసాయం, పశుపోషణ గనుల త్రవ్వకం.

2. ద్వితీయ రంగం - అన్ని రకాల పరిశ్రమలు

3. తృతీయ రంగం లేక సేవారంగం - బ్యాంకులు, రైల్వేలు, దేశరక్షణ, విద్య, వైద్యం.

జ.	రంగం	ఉపాధి %		G.D.P %	
		1972 - 73	2009 - 10	1972 - 73	2009 - 10
	వ్యవసాయం	74%	53%	42%	17%
	పరిశ్రమలు	11%	22%	22%	26%
	సేవలు	15%	25%	35%	57%

2. భారతదేశములో ఆర్థిక వ్యవస్థ త్రివిధ రంగముల వారిగా కార్మికుల వివరాలు 2009 - 10

జ.	రంగం	నివాస స్థానం		స్త్రీ పురుషులు		మొత్తం కార్మికులు
		గ్రామీణ	పట్టణ	పురుషులు	స్త్రీలు	
	ప్రాథమిక	68	8	47	69	53
	ద్వితీయ	17	34	34	16	22
	సేవారంగం	15	58	19	15	25
	మొత్తం	100	100	100	100	100

పట్టికను జాగ్రత్తగా గమనించితిరి కదా ? ఇక క్రింది ప్రశ్నలకు సమాధానములు కనుక్కోండి. (AS 3)

1. వ్యవసాయ రంగంలో పనిచేయు కూలీలందరూ లో నివసిస్తున్నారు. (గ్రామాలలో)
2. 69% పనివారు ప్రాథమిక రంగంలో పనిచేస్తున్నారు. (స్త్రీ లేదా మహిళా)
3. పురుషులతో పోలిస్తే స్త్రీలకు మరియు రంగాలలో తక్కువ ఉపాధి లభించింది. (పారిశ్రామిక, సేవా)
4. 92% పట్టణ కార్మికులు మరియు రంగాలలో ఉపాధి పొందుతున్నారు. (పారిశ్రామిక, సేవా)

3. భారతదేశంలోని ప్రజలు ఎక్కువమంది అవ్యవస్థీకృత రంగములోనే ఉన్నారు. ఇలాంటి వారిలో రక్షణ అవసరమైన కార్మికులు ఎవరు ? రక్షణ ఎందుకు అవసరం ? (AS 1)

- జ.
1. అవ్యవస్థీకృత రంగంలోని కార్మికులు అధికంగా గ్రామాలలోని భూమి లేని వ్యవసాయ కూలీలు, సన్న, చిన్నకారు రైతులు, కౌలుదారులు, చేనేత, కమమరం, వడ్రంగం, కంసాలి వంటి చేతి వృత్తుల వాళ్ళు.
 2. భారతదేశంలోని గ్రామీణ ప్రాంతంలోని 80 శాతం కుటుంబాలు సన్న, చిన్న చారు రైతులకిందికి వస్తాయి.
 3. సన్న, చిన్నకారు రైతులకు సకాలంలో విత్తనాలు వ్యవసాయ ఋణాలు సౌకర్యాలు, గిట్టుబాటు ధరతో విక్రయ కేంద్రాలు వంటి Cold Storage సౌకర్యాలు కల్పించాలి.
 4. స్త్రీ పురుష కూలీలకు పనికి తగిన వేతనం మరియు ప్రతిరోజూ పని ఉండేలా ఏర్పాట్లు ఉండాలి.

4. భారతదేశ శీతోష్ణస్థితి

I. లక్ష్యాత్మక ప్రశ్నలు

1. శీతోష్ణస్థితి అంశాలైన ఉష్ణోగ్రత, వర్షపాతము మొదలగు అంశాలను సూచించే గ్రాఫ్లను అంటారు.
(క్లెమటోగ్రాఫ్లు)
2. భారతదేశంలోని అత్యధిక వర్షపాత ప్రాంతము (మేఘాలయలోని మాసిన్రాం ప్రాంతము (1134 సెం.మీ.))
3. అత్యల్ప వర్షపాత ప్రాంతము (జైసల్మీర్ (10 సెం.మీ.))
4. భారత్లో అధిక ఉష్ణోగ్రత ప్రాంతము (జైస్మీర్)
5. భారత్లో అల్ప ఉష్ణోగ్రత ప్రాంతము (ద్రాస్ (కాశ్మీర్))
6. భూఉపరితల వేడిమి అధికంగా ఉండే ప్రాంతము (భూమధ్యరేఖా ప్రాంతము)
7. భారతదేశము మేఖలలో ఉంది. (శుష్క ఈశాన్య పవనాల)
8. భారతదేశంలో జెట్ ప్రవాహాలు ఏర్పడిన అక్షాంశము
(25° ఉత్తర అక్షాంశ రేఖ వద్ద గల ప్రాంతం)
9. బంగాళాఖాతంలో వీచే ఈశాన్య ఋతుపవనాల వల్ల వర్షం అధికంగా కురిసే ప్రాంతము
(తమిళనాడులోని కోరమండల్ ప్రాంతం)
10. ఉత్తరాది మైదానాలలో పొడిగా, వేడిగా ఉండే స్థానిక పవనాలు (లూ పవనాలు)
11. లూ పవనాలు వీచే ప్రాంతము (రాజస్థాన్)
12. భారతదేశంలో అధిక వర్షపాతమును అందించే పవనాలు (నైరుతి ఋతుపవనాలు)
13. నైరుతి ఋతుపవనాల వల్ల లబ్ధి పొందని ప్రాంతము (తమిళనాడులోని కోరమండల్ ప్రాంతం)
14. గోదావరి, కృష్ణా, కావేరి డెల్టా ప్రాంతాలలో అల్పపీడన పరిస్థితుల కారణంగా ఏర్పడేవి
(తుఫానులు, వాయుగుండాలు)
15. భూమిని కప్పి ఉంచే తేలికపాటి దుప్పటి లాంటిది (వాతావరణం)
16. మానవ చర్యల కారణంగా భూమి వేడెక్కటానికి కారణమైన విప్లవము (పారిశ్రామిక విప్లవము)
17. AGW అనగా..... (మానవ కారణంగా భూమి వేడెక్కడం లేదా ఆంత్రోపొజెనిక్ గ్లోబల్ వార్మింగ్)
18. ఇటీవల రష్యాలోని గడ్డకట్టిన టండ్రాల క్రింద పెద్ద మొత్తంలో ఈ వాయువు ఉందని శాస్త్రజ్ఞులు కనుగొన్నారు.
(మిథేన్ వాయువు)
19. కార్బన్ డై ఆక్సైడ్ కంటే అతి శక్తివంతమైన విషపూరిత హరిత గృహవాయువు (మిథేన్ వాయువు)

5. లేహ్ ప్రాంతము కంటే జైహూర్ ప్రాంతంలో ఉష్ణోగ్రతలు అధికంగా ఉండుటకు గల కారణమేమి ?

జ. లేహ్ పర్వత ప్రాంతముల మధ్య విస్తరించి ఉండగా, జైహూర్ ఎడారి ప్రాంతంలో విస్తరించి ఉంది. అందువల్ల లేహ్ ప్రాంతంలో ఉష్ణోగ్రతలు 20°C నుండి 28°C వరకు విస్తరించగా జైహూర్ ఉష్ణోగ్రత అత్యధికంగా 26°C నుండి 41°C వరకు విస్తరించి ఉంటుంది.

6. ఢిల్లీ, చెన్నైల శీతోష్ణస్థితులను పోల్చి, వాటిలో మీరు గమనించిన తేడాలను గుర్తించండి.

జ. ఢిల్లీ, చెన్నైల శీతోష్ణస్థితుల మధ్య తేడాలు :

1. ఢిల్లీ ఖండాతర్గత శీతోష్ణస్థితి గల ప్రాంతము, చెన్నై సముద్ర ప్రభావిత శీతోష్ణస్థితి గల ప్రాంతము.
2. ఢిల్లీలో ఉష్ణోగ్రత వ్యత్యాసాలు ఎక్కువ. కాగా చెన్నైలో వివిధ నెల్లో ఉష్ణోగ్రతల మధ్య తేడా అంతగా ఉండదు.
3. ఢిల్లీలో చలితీవ్రత అధికము కాని చెన్నైలో చలితీవ్రత తక్కువ.
4. నైఋతి ఋతుపవనాల వల్ల వర్షపాతమును ఢిల్లీ పొందుతుంది. కాని చెన్నై ఈశాన్య ఋతుపవనాల వల్ల వర్షాన్ని పొందుతుంది.

7. శీతోష్ణస్థితిని ప్రభావితము చేయు అంశములను పేర్కొనుము.

జ. ఒక ప్రాంతపు శీతోష్ణస్థితిని ప్రభావితం చేయు కారకాలను శీతోష్ణస్థితి అంశాలు అంటారు. అవి :

- 1) అక్షాంశాలు, 2) భూమి - నీటికి మధ్య గల సంబంధము 3) భౌగోళిక స్వరూపము 4) ఉపరితల గాలి ప్రసరణ.

8. ఉష్ణోగ్రతల ఆధారంగా భారతదేశంలోని వివిధ కాలాలను పేర్కొనుము.

జ. భారతదేశంలోని కాలాలను ఉష్ణోగ్రతల ఆధారంగా విభజించవచ్చు. అవి నాలుగు.

1. శీతాకాలము - నవంబరు మధ్య నుండి ఫిబ్రవరి మధ్య వరకు
2. వేసవికాలము - ఫిబ్రవరి నుండి మే వరకు
3. వర్షాకాలము లేదా ఋతుపవన కాలము - జూన్ ప్రారంభం నుండి సెప్టెంబరు వరకు
4. తిరోగమన కాలము - సెప్టెంబరు నుండి నవంబరు వరకు

9. వేసవికాలంలో ఢిల్లీ కంటే సిమ్లా ఎందుకు చల్లగా ఉంటుంది ?

జ. ఢిల్లీ ఖండాతర్గత శీతోష్ణస్థితి ప్రాంతంలో విస్తరించి ఉండడంవల్ల వేసవి ఉష్ణోగ్రతలు ఎక్కువ. సిమ్లా పర్వత ప్రాంతాల వద్ద లోయ ప్రాంతంతో విస్తరించి ఉండడం వల్ల, ఇక్కడ వేసవి ఉష్ణోగ్రతలు తక్కువ. ఢిల్లీ కంటే సిమ్లా అధిక అక్షాంశాలపై విస్తరించడం వల్ల కూడ రెండింటి ఉష్ణోగ్రతలలో విపరీతమైన వ్యత్యాసము ఉంటుంది.

10. కోల్ కత్తాతో పోలిస్తే డార్జిలింగ్ లో వాతావరణం ఆహ్లాదకరంగా ఉండుటకు గల కారణమేమిటి ?

జ. కోల్ కత్తా ఉష్ణమండల ప్రాంతంలో సముద్ర తీరం వెంబడి విస్తరించి ఉంది. డార్జిలింగ్ సమశీతోష్ణ మండలంలో ఉండుటయే కాక హిమాలయ పర్వతాలలో ఎత్తైన ప్రదేశంలో విస్తరించి ఉండడం వల్ల ఈ ప్రాంతంలో ఉష్ణోగ్రతలు తక్కువగా ఉండి వాతావరణం ఆహ్లాదకరంగా ఉంటుంది.

5. అభివృద్ధి చెందిన, అభివృద్ధి చెందుతున్న దేశాల మధ్య భూగోళం వేడెక్కడంపై గల భిన్న అభిప్రాయాలను తెలపండి.
- జ. 1. హరిత గృహ ఉద్ధారాలను తగ్గించడానికి, మరియు మానవజనిత కారణాల వల్ల భూగోళం వేడెక్కడాన్ని అరికట్టుటకు గాను IPCC అను అంతర్జాతీయ సంస్థ ఏర్పడింది.
2. ఈ సంస్థ చేసిన ఏ ప్రయత్నము సఫలము కాలేదు.
3. అందుకు ప్రధాన కారణము అభివృద్ధి చెందిన, అభివృద్ధి చెందుతున్న దేశాల మధ్యగల భిన్నమైన అభిప్రాయాలు తలెత్తడమే.
4. వాతావరణంలోని హరితగృహ వాయువులను పెంచే బొగ్గు వినియోగం ఇతర కార్యకలాపాలను అభివృద్ధి చెందుతున్న దేశాలు తగ్గించుకోవాలిన అభివృద్ధి చెందిన దేశాలు అభిప్రాయపడుతున్నాయి.
5. శిలాజ ఇంధనాల వినియోగం వల్లనే తమ దేశాలు అభివృద్ధి చెందుతున్నాయని, వాటిని వినియోగించకపోతే ఆర్థిక ప్రగతి తీవ్రంగా కుంటుపడుతుందని అభివృద్ధి చెందుతున్న దేశాల వాదన.

ఫలితంగా IPCC సమావేశాలు సఫలం కాక, భూగోళం వేడెక్కడాన్ని నిరోధించలేకపోతున్నాయి.

6. భూగోళం వేడెక్కడాన్ని తగ్గించడానికి పాటించవలసిన చర్యలను కొన్నింటిని సూచించండి.

- జ. భూగోళం వేడెక్కడాన్ని తగ్గించడానికి పాటించవలసిన ముఖ్యమైన చర్యలు :
- 1) అడవులను విరివిగా పెంచడము 2) శిలాజ ఇంధనములు వాడకాన్ని తగ్గించడము 3) పునరుత్పాదక ఇంధనాల వాడకాన్ని ప్రోత్సహించడం 4) క్లోరోఫ్లోరో కార్బన్ల విడుదలను తగ్గించుటకు గాను మోటారు వాహనాల వినియోగాన్ని తగ్గించాలి. 5) పారిశ్రామిక వ్యర్థాలను రీసైక్లింగ్ చేయటం ద్వారా వాతావరణ కాలుష్యాన్ని తగ్గించటము 6) ఎరువుల వాడకాన్ని తగ్గించటం మొదలగు చర్యలను పాటించడం ద్వారా భూగోళం వేడెక్కడాన్ని తగ్గించవచ్చు.

7. భారతదేశంపై శీతోష్ణస్థితి మార్పుల ప్రభావమును వ్యాఖ్యానించండి.

- జ. 1. భూగోళం వేడెక్కడం వల్ల భారతదేశపు సగటు ఉష్ణోగ్రతలు 2° వరకు పెరిగాయి.
2. ఫలిత సముద్ర మట్టపు ఎత్తు 1 మీటరు వరకు పెరుగుతుంది.
3. భారత తీర ప్రాంతాలు దీనివల్ల ప్రభావితం అవుతున్నాయి.
4. కోట్లాది మంది నిరాశ్రయులై జీవనోపాధిని కోల్పోతారు.
5. ఐలా పెను తుఫాను కారణంగా 2009లో సుందర్బన్ ప్రాంతం అతలాకుతలం కావడంలో అక్కడి తీరప్రాంత ప్రజలు నిరాశ్రయులై జీవిస్తున్నారు.
6. భూగోళం వేడెక్కడం వల్ల వర్షపాత పరిస్థితిలో కూడా మార్పు వస్తుంది.
7. వరదలు, కరువులు ఎక్కువ అయ్యే అవకాశం వుంది.
8. ఫలితంగా భారత వ్యవసాయము, ప్రజల జీవనోపాదులు ప్రభావితమౌతాయి.



5. భారతదేశ నదులు - నీటి వనరులు

I. లక్ష్యాత్మక ప్రశ్నలు

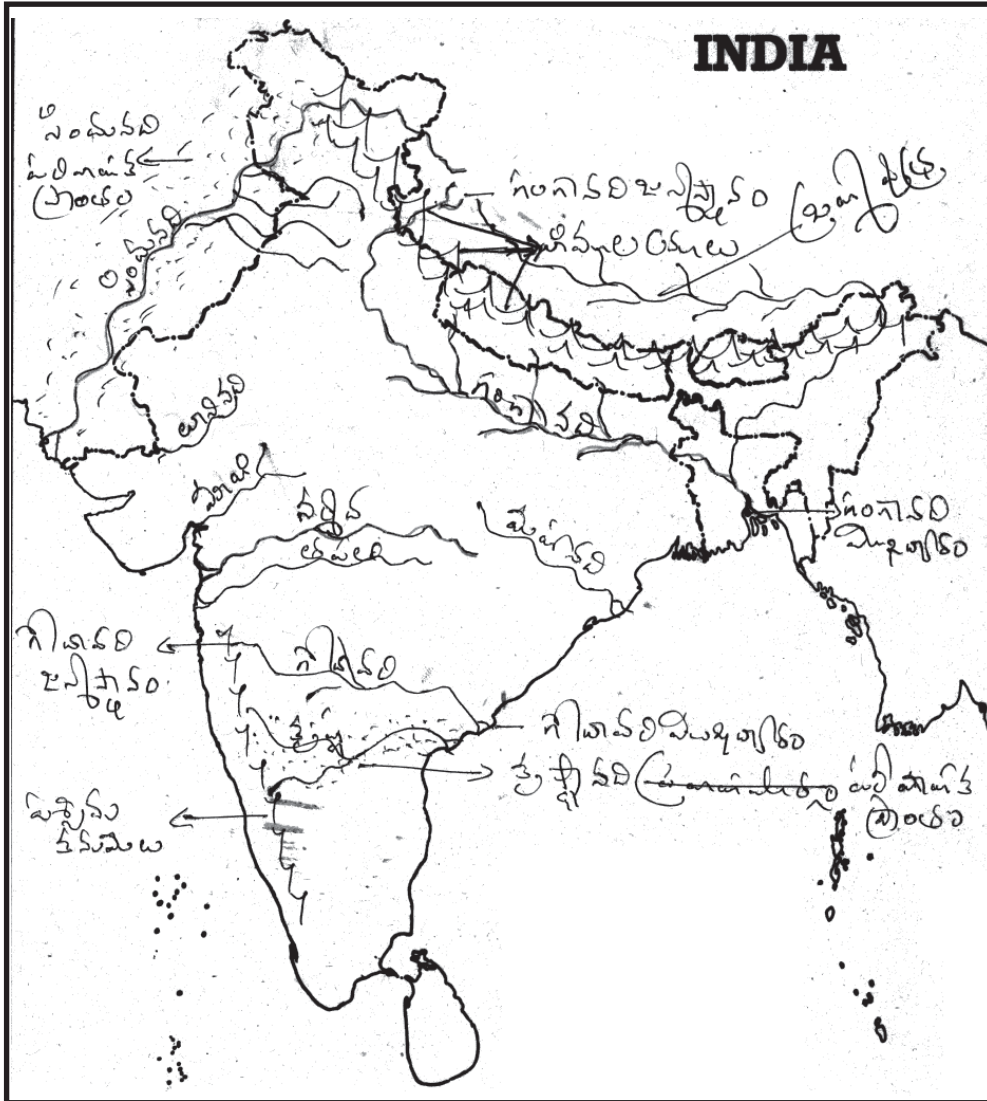
1. మనదేశంలో గృహ అవసరాలకు నీటిని ఉపయోగిస్తున్నాము. (5%)
2. హిమాలయ నదులు పర్వత శృంఖలాలను కోసుకుంటూ మైదానాలు చేరుకునే క్రమంలో ఆకారపు లోయలను ఏర్పరుస్తాయి. (V)
3. సింధూనది జన్మస్థానం (టిబెట్లోని మానస సరోవరం)
4. సింధూనది భారతదేశంలోకి రాష్ట్రంలో ప్రవేశిస్తుంది. (జమ్మూకాశ్మీర్)
5. జీలం యొక్క ఉపనది. (సింధు)
6. గంగానది మరియు నదులు కలయిక. (భగీరథి, అలకనంద)
7. అలకనంద జన్మస్థలం (సతప్నాథ్)
8. బ్రహ్మపుత్రను టిబెట్లో అంటారు. (సాంగ్పో)
9. బ్రహ్మపుత్ర నది హిమనీనదం నుండి మారుతుంది. (చెమయుంగ్డంగ్)
10. అలకనంద భగీరథి వద్ద కలుస్తాయి. (దేవప్రయాగ)
11. బ్రహ్మపుత్ర అరుణాచలప్రదేశ్లో మరియు గా పిలువబడును. (సియాంగ్, దిహోంగ్)
12. అస్సాంలో బ్రహ్మపుత్రతో కలియు ఉపనదులు మరియు (దిబాంగ్, లోషిత్)
13. ద్వీపకల్ప నదులన్నీ పడమర నర్మద, తపతి కాక మిగిలిన ద్వీపకల్ప నదులన్నీ పడమర నుంచి వైపుకు ప్రవహిస్తాయి. (తూర్పు)
14. 'సోన్' నది యొక్క ఉపనది. (గంగ)
15. ద్వీపకల్ప నదులలో పెద్దనది. (గోదావరి)
16. గోదావరి జన్మస్థలం (మహారాష్ట్రలోని నాసికా త్రయంబకం)
17. కృష్ణానది వద్ద పుడుతుంది. (మహాబలేశ్వరం)
18. మహానది ఛత్తీస్ఘడ్లోని వద్ద మారుతుంది. (సిహావా)
19. నర్మదానది మధ్యప్రదేశ్లోని వద్ద పుడుతుంది. (అమరకంటక్)
20. కృష్ణా, గోదావరి నదులు సముద్రంలో పుడుతుంది. (బంగాళాఖాతం)
21. నీరు నీటి ఆవిరిగా మారడాన్ని అంటారు. (భాష్పోత్సేకం)

4. నీటి వనరుల వినియోగ నియంత్రణకు స్థానిక స్థాయిలోనూ జాతీయ స్థాయిలోనూ చట్టాలు చేయాలి.
5. దీనిని ప్రతి వ్యక్తి ఒక సామాజిక బాధ్యతగా భావించాలి.

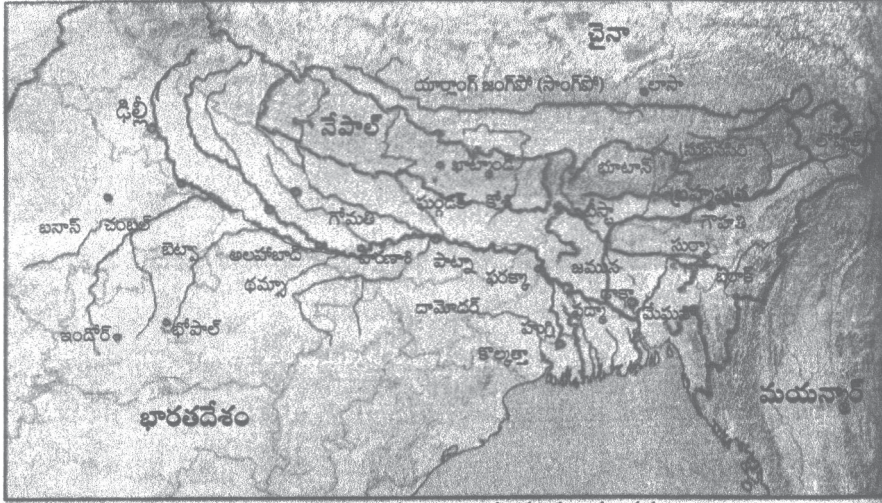
A.S.No. 5 : Mapping Skills :

1. మీకివ్వబడ్డ భారతదేశ పటంలో క్రింది నదులను, నదీ జన్మ స్థానాలను, నదీ ముఖ ద్వారాలను గుర్తించుము.

- జ. 1. గంగా 2. సింధు 3. బ్రహ్మపుత్ర 4. నర్మద 5. తపతి 6. మహానది 7. మూసినది 8. లూనినది
 9. గోదావరి 10. కృష్ణ 11. గంగానది జన్మస్థానం 12. గోదావరి జన్మస్థానం 13. గంగానది ముఖద్వారం
 14. గోదావరి ముఖద్వారం 15. సింధూనది పరివాహక ప్రాంతం 16. కృష్ణానది పరివాహక ప్రాంతం
 17. హిమాలయాలు 18. పశ్చిమ కనుమలు.



1. ఈ క్రింది పటాన్ని చదివి (చూసి) గంగానదిమీకివ్యభిన్న భారతదేశ పటంలో క్రింది నదులను, నదీ జన్మ స్థానాలను, నదీ ముఖ ద్వారాలను గుర్తించుము.
2. గంగానది యొక్క ఏ ఉపనదులు ఉత్తరంగా ప్రవహిస్తున్నాయి ?
3. గంగానది యొక్క ఏవి ఉపనదులు దక్షిణం దిశగా ప్రవహిస్తున్నాయి తెలుపుము.



గంగా, బ్రహ్మపుత్రల సంగమం

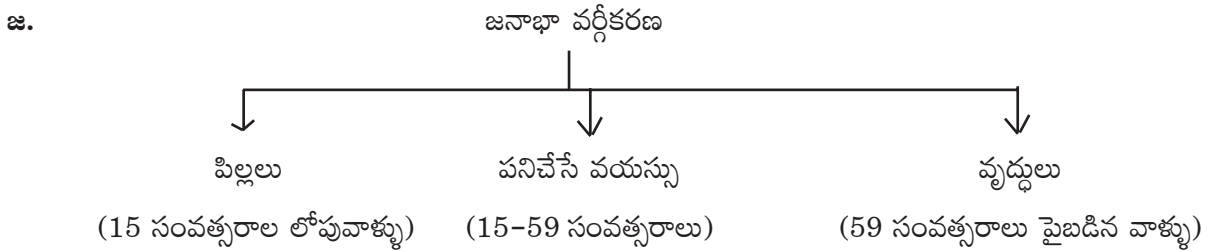
- జ. 1. గంగానది ప్రవహిస్తున్న రాష్ట్రాలు : 1. ఉత్తరాఖండ్ 2. ఉత్తరప్రదేశ్ 3. బీహార్ 4. జార్ఖండ్ 5. పశ్చిమ బెంగాల్
2. ఉత్తరంగా ప్రవహించు గంగానది యొక్క ఉపనదులు : కోసి, గండక్, గోమతి
3. దక్షిణంగా ప్రవహిస్తున్న గంగానది యొక్క ఉపనదులు : చంబల్, బిట్వా, ధమ్నా

నాలుగు మార్కుల ప్రశ్నలు

1. మనం గృహ అవసరాల నిమిత్తం 5% నీటినే ఉపయోగిస్తున్నాం. అయినా కానీ ఎక్కువ మందికి నీళ్ళు అందడం లేదు. దీనికి కారణాలు ఏమై ఉండవచ్చని నీవు భావిస్తున్నావు ? (AS 1 & AS 4)
- జ. 1. నీటిని సరఫరా చేయడం అనేది ప్రభుత్వ బాధ్యత.
2. భారతదేశంలో ప్రభుత్వం దీనికి సంబంధించి ఎన్నో ప్రయత్నాలు చేసింది.
3. భూగర్భజల వనరులు తగ్గిపోవడం వాటి నాణ్యత క్షీణించిపోవడం మొదలగునవి గ్రామీణ పట్టణ ప్రాంతాలలో నీటి సరఫరాను దెబ్బతీస్తున్నది.
4. భూఉపరితల నీటివనరుల కాలుష్యం వలన, జలవివాదాల వలన, వర్షపు నీటిని ఒడిసి పట్టుకునే చర్యలు (Rain water harvesting) తీసుకోకపోవడం వలన అపారమైన జలవనరులు ఉండి ఉండే ప్రాంతాలకు సరైన ప్రణాళికలు లేక దేశంలోని ప్రజలందరికీ వారి మానవ హక్కు అయిన త్రాగునీటిని సైతం అందించలేకపోతున్నాము.
5. ఇది ఖచ్చితంగా ప్రభుత్వాల వైఫల్యం. నదుల అనుసంధానం, Rain water harvesting చాలా చాలా అవసరం అని చెప్పవచ్చును.
6. నదుల అనుసంధానం ద్వారా వర్షచ్ఛాయ ప్రాంతాలకు నీరు లభించని నదులు పారని ప్రాంతాలకు నీటిని మళ్ళించి ఉపరితల మరియు భూగర్భజలాలను పెంచుకోవచ్చు.

I. ఒక మార్కు ప్రశ్నలు

1. భారతదేశంలో శ్రామికులలో ఎంతశాతము అవ్యవస్థీకృత రంగంలో ఉన్నారు ? (92%)
2. భారతదేశంలో మొదటి జనగణన
3. భారతదేశంలో మొదటి సంపూర్ణ జనగణన (1872)
4. భారతదేశంలో మొదటి సంపూర్ణ జనగణన (1881 (10 సంవత్సరాల కొకసారి))
5. భారతదేశంలో జనగణనను ఎవరు నిర్వహిస్తారు ? (సెన్సెక్స్ ఆఫ్ ఇండియా అనే కేంద్రప్రభుత్వం)
6. దేశజనాభాను ప్రధానంగా ఎన్ని వర్గాలుగా విభజిస్తారు ?



6. లింగ నిష్పత్తి అనగానేమి ?

జ. జనాభాలో ప్రతి వేయి (1000) మంది పురుషులకు ఎంతమంది స్త్రీలు ఉన్నారో తెలియజేసేది.

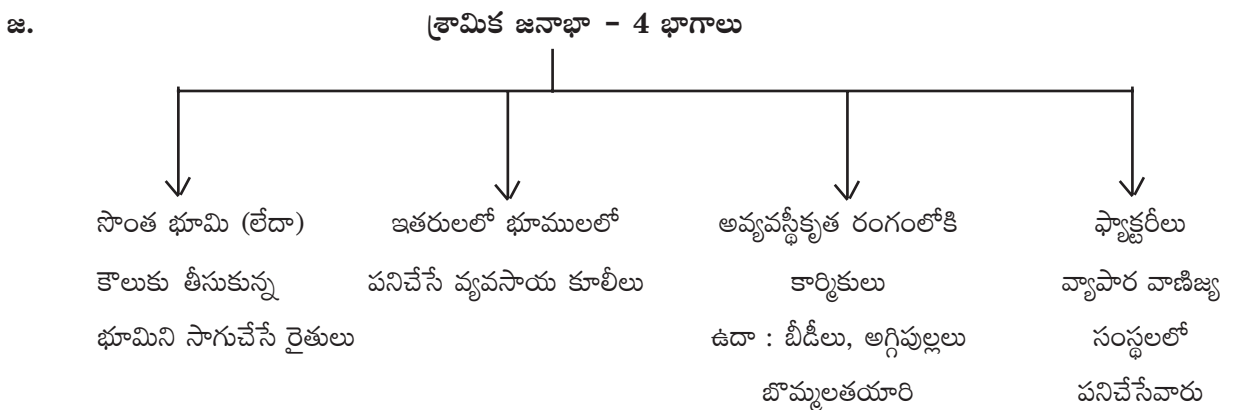
7. భారతదేశంలో ప్రతి వంద (100 మంది మగపిల్లలకు ఎంతమంది ఆడపిల్లలు ఉన్నారు ?

జ. 103 మంది.

8. శ్రామిక జనాభా వయస్సు ?

జ. 15 నుండి 59 సంవత్సరాల వయస్సు

9. శ్రామిక జనాభా వర్గీకరణ ఏమిటి ?



10. అక్షరాస్యత శాతము అనగానేమి ?

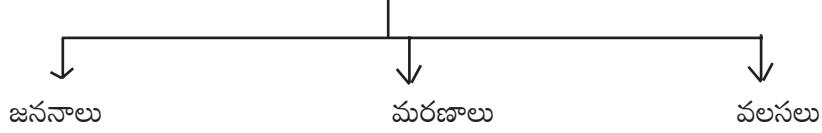
జ. ఏదేళ్ళ పైన ఉండి ఏదైన ఒక భాషలో అర్థవంతంగా చదవగలగడం / రాయగలగడం చేస్తే వారిని అక్షరాస్యులంటారు. జనాభాలో వీరి శాతాన్ని “అక్షరాస్యతా శాతం” అంటారు.

11. జనాభా మార్పు అనగానేమి ?

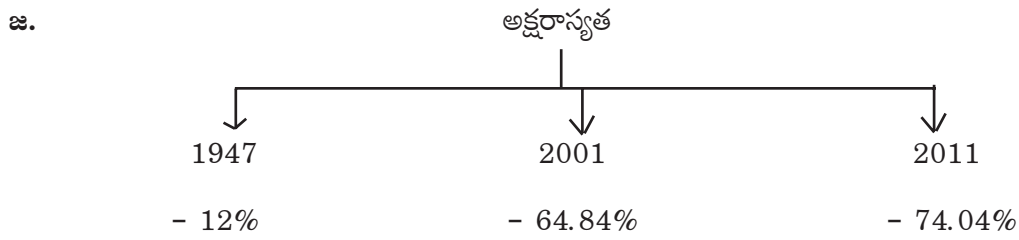
జ. పది సంవత్సరాలలో ప్రజల సంఖ్యలో మార్పుని జనాభా మార్పు అంటారు.

12. జనాభా మార్పును ప్రభావితం చేసే అంశాలు ఏవి ?


జ. జనాభా మార్పును ప్రభావితం చేసే అంశాలు - 3



13. వివిధ సంవత్సరాలలో అక్షరాస్యత వివరాలు తెలుపుము.




14. 2011 అక్షరాస్యత - 74.04%



15. ఫెర్టిలిటీ శాతము అనగానేమి ?

జ. ఒక మహిళకు పుట్టే మొత్తం పిల్లలు .

16. ఫెర్టిలిటీ శాతము వివరాలు



17. 1960లో ఫెర్టిలిటీ శాతము ఎంత ?

జ. 5.6% కంటే ఎక్కువ.

18. జనసాంద్రత అనగానేమి ?

జ. ఒక చదరపు కిలోమీటరుకు సగటున నివసించే జనాభాను “జనసాంద్రత” అంటారు.

19. భారతదేశ జనసాంద్రత ఎంత ?

జ. 382

4 మార్కుల ప్రశ్నలు

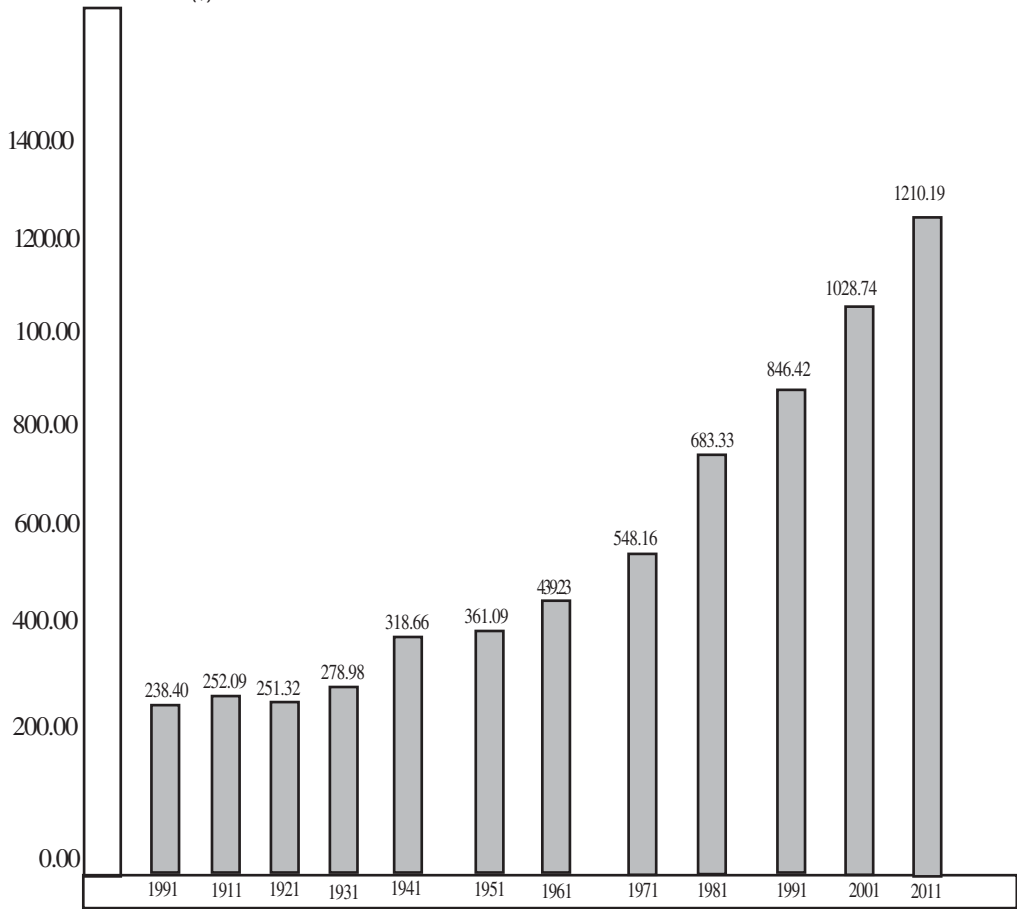
6. క్రింద ఇచ్చిన గణాంకాలను పరిశీలించి ప్రశ్నలకు సమాధానములు రాయండి.

ప్రాంతము	హర్యానా	పంజాబ్	ఆంధ్రప్రదేశ్	కేరళ	అమెరికా
లింగనిష్పత్తి	870	880	970	1040	1050

- ఎ. లింగనిష్పత్తి ఎంతమంది పురుషులకు లెక్కిస్తారు ?
- జ. 1000 మంది పురుషులకు
- బి. పై పట్టికలో భారతదేశంలో అత్యధిక లింగనిష్పత్తి ఏ రాష్ట్రంలో కలదు ?
- జ. కేరళ (1040)
- సి. అమెరికా యొక్క లింగ నిష్పత్తి ఎంత ?
- జ. 1050
- డి. పై పట్టికలో అత్యల్ప లింగనిష్పత్తి గల రాష్ట్రం ఏది ?
- జ. హర్యానా

7. క్రింది గ్రాఫ్‌ను పరిశీలించి ప్రశ్నలకు సమాధానాలు రాయండి.

జ. భారతదేశ జనాభా - మిలియన్లలో (1901-2011)



7. ప్రజలు - నివాస ప్రాంతాలు

I. లక్ష్యాత్మక ప్రశ్నలు

1. సిమ్లా పట్టణము ప్రస్తుతము ఏ రాష్ట్ర రాజధాని ? (హిమాచల్ ప్రదేశ్)
2. ఒక ప్రదేశంలో మన నివాస స్థలాన్ని, మన జీవితాలను ఏర్పరచుకున్న పద్ధతినీ అంటారు. (నివాస ప్రాంతము)
3. నగరాలు, పట్టణాల సంఖ్య అధికంగా పెరగడాన్ని..... అంటారు. (పట్టణీకరణ)
4. లండన్ ప్రాంతం ఏ రాష్ట్రంలో ఉంది ? (జమ్ము & కాశ్మీర్)
5. తొలి మానవులు ఉపయోగించిన పరికరాలు వేటితో తయారుచేసుకున్నారు ? (రాళ్ళతో)
6. మానవులు సుమారు ఎన్ని లక్షల సంవత్సరాలు పాటు వేటగాళ్ళుగా జీవించారు ? (1.8 లక్షల సంవత్సరాలు)
7. తొలి మానవులు ఎలాంటి జీవనం గడిపేవారు ? (సంచార జీవులు)
8. ఎన్ని సంవత్సరాల క్రితం మానవుడు వ్యవసాయం ద్వారా ఆహార ఉత్పత్తి చేసే దశను చేరుకున్నాడు ? (10,000 సంవత్సరాల క్రితం)
9. మధ్యప్రదేశ్ లోని ఆదిమానవుడు నివసించిన రాతి గుహలు గల ప్రాంతము (భీంజేద్గా)
10. ప్రకృతిలోని పరిస్థితులకు ప్రజలు బాగా అర్థం చేసుకోవడానికి దోహదపడిన అంశము (వ్యవసాయ అభివృద్ధి)
11. భారతదేశాన్ని పాలించిన అనేక రాజ్యాలకు కేంద్రంగా ఉండేది. (ఢిల్లీ)
12. భారతదేశంలోని అతిపెద్ద నగరము (ఢిల్లీ)
13. 1951 నుండి గత 60 సంవత్సరాలలో ఢిల్లీ నగర జనాభా ఎన్ని రెట్లు పెరిగింది ? (8 రెట్లు)
14. వ్యవసాయం చెయ్యని ప్రజలు ఉండే ప్రాంతాలు (పట్టణ నివాస ప్రాంతాలు)
15. ఢిల్లీ నగరంలో జనాభా పెరుగుదలకు ప్రధానకారణం ఏమి ? (వలస వచ్చిన ప్రజలు)
16. ఢిల్లీ నగరంలో చట్టబద్ధమైన నివాసాలుగా గుర్తించని గుడిసెలు గల ప్రాంతాలను ఏమంటారు ? (జుగ్గి జోష్టి ప్రాంతాలు)
17. D.D.A అనగా - ఢిల్లీ అభివృద్ధి సంస్థ (Delhi Development Authority)
18. ఒక ప్రాంత లక్షణాలను గురించి తెలియజేసేది ? (ప్రదేశము)
19. ప్రతాపగఢ్ కోటను నిర్మించిన వారు ? (ఛత్రపతి శివాజీ)
20. ఒక ప్రాంతానికి ఇతర ప్రదేశాలతో ఉన్న సంబంధాలను తెలియజేయు అంశము (పరిస్థితి)
21. విశాఖపట్టణం ఏ రాష్ట్రంలో ఉంది ? (ఆంధ్రప్రదేశ్)
22. ముంబై, చెన్నై వంటి నగరాలను బ్రిటిష్ వారు ఏ విధంగా ఉపయోగించుకున్నారు ? (సహజ వనరుల దోపిడి)
23. ఏ యూరోపియన్ రాజ్యము విశాఖపట్టణమును వశపరచుకున్నారు. (బ్రిటన్)

3. వీరు ఆహారం కోసం శ్రమించవలసి వచ్చేది.	3. వీరు ఉన్నచోటనే వ్యవసాయం చేస్తూ ఆహారాన్ని ఉత్పత్తి చేసేవారు.
4. వీరియొక్క ప్రధాన వృత్తి వేట.	4. వీరి ప్రధాన వృత్తులు వ్యవసాయం, వర్తకము, చేతివృత్తులు.
5. వీరు అడవులలో ఎక్కువగా జీవిస్తారు.	5. వీరు గ్రామాలు, పట్టణాలు, నగరాలల జీవిస్తారు.

2. స్థిర నివాసం ఏర్పాటు చేసుకోవటంతో మానవ జీవన శైలి ఎలా మారింది ?

- జ. 1. స్థిర నివాసం వల్ల మానవుని జీవన విధానంలో అనేక మార్పులు
2. తొలి మానవులు వేట స్వీకరణ ద్వారా ఆహారాన్ని సమకూర్చుకునేవారు. వారు సంచార జీవనం చేసేవాళ్ళు.
3. వ్యవసాయం చేయడం ఆహార ఉత్పత్తి అనేది వీళ్ళ జీవితాలలో అనేక మార్పులు తీసుకొని వచ్చింది. ఇది 10,000 సం॥రాల క్రితం జరిగింది.
4. దీని కారణంగా మానవులు ఒక ప్రాంతంలో స్థిరనివాసం ఏర్పాటు చేసుకొని వ్యవసాయంతో పాటు వర్తక, ఉద్యోగాలు చేస్తూ జీవించసాగారు.
5. దీనివల్ల ఆహారంకోసం చాలాదూరం తిరగాల్సిన పని తప్పింది. ఒక ప్రదేశంలో ఎక్కువ కాలం ఉండటానికి వీలుపడింది.

3. ఢిల్లీ నగరం యొక్క జనాభా పెరుగుటకు గల కారణములను పేర్కొనండి.

- జ. 1. ఢిల్లీ నగర జనాభా పెరుగుటకు ప్రధాన కారణము వలస వచ్చిన ప్రజలు.
2. కొన్ని దశాబ్దాల నుండి పెద్ద సంఖ్యలో ప్రజలు ఉద్యోగాలు, ఉపాధి వెతుక్కుంటూ దేశం అన్ని ప్రాంతాల నుండి వలస రాసాగారు.
3. దేశ రాజధాని కావడం, పార్లమెంటు, కేంద్ర ప్రభుత్వ కార్యాలయాలు ఉండడం వల్ల అన్ని రాష్ట్రాల ప్రజలు ఇక్కడికి వలస వచ్చి నివసిస్తున్నారు.
4. ఈ వలసల వల్ల జనాభా పెరగడంతో పాటు, నివాస ప్రాంతాల విస్తీర్ణం పెరిగింది.

4. మాస్టర్ ప్రణాళిక అనగానేమి ? దానిని గురించి వివరించుము.

- జ. 1. ప్రతి నగరానికి వివిధ రకాల ప్రాంతాలు రూపొందించటానికి భూమిని కేటాయించడానికి ఒక ప్రణాళికను రూపొందించడము జరుగుతుంది. దీనినే మాస్టర్ ప్రణాళిక అంటారు.
2. ఏ నగరంలోనైనా నివాస ప్రాంతాలకు అనువుగా మార్కెట్లు, పాఠశాలలు, పారిశ్రామిక ప్రాంతాలు, కార్యాలయ ప్రాంతాలు, ఉద్యానవనాలు, వినోద స్థలాలు వంటివి ఉండాలి.

3. అటువంటి అన్ని సౌకర్యాలను కల్పించడానికి నివాసప్రాంతాల అభివృద్ధికి గాను ఆయా ప్రాంతాలలో ఎలంటి రోడ్లు ఉండాలి? ఎంత విద్యుత్తు అవసరము ? నీటి సరఫరా ఎక్కడి నుండి ఎంత మేరకు అందించాలి ? పారిశుధ్య పరిస్థితులు ఎలా కల్పించాలి ? వంటి అంశాలతో ప్రణాళికలను రూపొందిస్తారు.
4. వీటిని అనుసరించి ఆయా నగర అభివృద్ధి సంస్థలు కార్యక్రమాలను నిర్ణయిస్తారు.

5. భారత దేశంలోని విమానాశ్రయ నగరాలను పేర్కొనండి.

- జ. 1. బెంగుళూరు అంతర్జాతీయ విమానాశ్రయము (కర్ణాటక)
 2. గాంధీ అంతర్జాతీయ విమానాశ్రయము (ఢిల్లీ)
 3. రాజీవ్ గాంధీ అంతర్జాతీయ విమానాశ్రయము (హైదరాబాద్, తెలంగాణ)

6. ఇతర దేశాలలో కొన్ని అంతర్జాతీయ విమానాశ్రయాలను పేర్కొనండి.

- జ. 1. సువర్ణ భూమి అంతర్జాతీయ విమానాశ్రయము (బ్యాంకాక్, థాయ్ లాండ్)
 2. దుబాయ్ అంతర్జాతీయ విమానాశ్రయము (దుబాయి, U.A.E.)
 3. కైరో అంతర్జాతీయ విమానాశ్రయము (కైరో, ఈజిప్ట్)
 4. లండన్ హిథ్రో విమానాశ్రయము (లండన్, U.K.)

7. పట్టణీకరణ వల్ల ఏర్పడే సమస్యలను పేర్కొనుము.

- జ. 1. పట్టణంలో నివసించే ప్రజలందరికీ గృహవసతి, నీటి పారుదల సౌకర్యాలు కల్పించడం కష్టం అవుతుంది.
 2. పట్టణాలలో వాహనాల వినియోగం పెరగడం వల్ల వాయు కాలుష్యం పెరుగుతుంది.
 3. అందువల్ల వాతావరణ మార్పులకు, ఆరోగ్య సమస్యలకు కారణమవుతుంది.
 4. పట్టణాలలో మురుగు నీటిపారుదల సౌకర్యాలు సరిగ్గా లేకపోతే అది ఎన్నో అంటువ్యాధులకు దారితీయవచ్చు.
 5. పట్టణాలలో ప్లాస్టిక్ వాడకం వల్ల మరియు పారిశ్రామిక వ్యర్థ పదార్థాల కారణంగా పర్యావరణం దెబ్బతింటుంది.

నాలుగు మార్కుల ప్రశ్నలు

1. ప్రదేశం, పరిస్థితి అంశాలను నిర్వచించండి. మీరు నివసిస్తున్న ప్రాంతమును ఉదాహరిస్తూ వివరించండి.

- జ. **1. ప్రదేశము :** ఒక ప్రాంత లక్షణాలు అనగా మిట్లపల్లాలు సముద్రానికి ఎంత ఎత్తులో ఉంది. నీటి వనరులు, నేలలంకాలు, భద్రత, ప్రకృతి శక్తులు మొదలగు అంశాలను గూర్చి తెలియజేయడాన్ని ప్రదేశము అంటారు.
- 2. పరిస్థితి :** ఒక ప్రదేశానికి ఇతర ప్రదేశాలతో ఉన్న సంబంధాన్ని తెలియజేయడాన్ని పరిస్థితి అంటారు.
1. ఉదా : 1. కర్నూలును పూర్వము కందనవోలు అనేవారు. తరువాత అది జిల్లా కేంద్రంగా ఏర్పడింది.
 2. కర్నూలు జిల్లాలో తూర్పు, దక్షిణ భాగంలో మంచి సారవంతమైన నేలలు ఉన్నాయి.
 3. ఈ భాగంలో ఎత్తైన పర్వతాలు, కొండలు, అడవులు మంచి నీటిపారుదల సౌకర్యాలు ఉన్నాయి.

4. పశ్చిమ భాగంలో వేలల్లో సారం తక్కువ, నీటి పారుదల సౌకర్యాలు తక్కువ.
5. కర్నూలు జిల్లాను ఇతర జిల్లాను ఇతర జిల్లాలతో, దేశంలోని ఇతర ముఖ్య పట్టణాలతో కలుపుతూ రైలు, రోడ్డు మార్గాలున్నాయి.
6. భారతదేశంలో అత్యంత పొడవైన జాతీయ రహదారి (NH-7) లేదా (NH-44) కర్నూలు జిల్లా గుండా పోతుంది.

2. వివిధ ప్రాంతాలను భారతదేశ జనాభా, గణక విభాగము ఎలా నిర్వహిస్తుంది ? పరిమాణం ఇతర అంశాల రీత్యా వాటిని ఎలా వ్యవస్థీకరిస్తుంది ?

జ. వ. సంఖ్య	ఉపయోగించు ప్రామాణికాలు	నివాస ప్రాంతాలు	ఉదా:
1.	కోటికి మించిన జనాభా గల నగదులు	మహానగరాలు	ముంబై, ఢిల్లీ, కోల్కత్తా
2.	10 లక్షల నుండి కోటి మధ్య జనాభా గల నగరాలు	మెట్రోపాలిటన్ నగరాలు	చెన్నై, హైదరాబాద్, కోల్కత్తా
3.	ఒక లక్ష నుండి 10 లక్షల మధ్య జనాభా గల ప్రాంతాలు	క్లాస్ - 1 పట్టణాలు	విశాఖ, విజయవాడ, రాజమండ్రి
4.	5,000 నుండి 1 లక్ష మధ్య జనాభా గల ప్రాంతాలు	పట్టణాలు	నంద్యాల, మంగళగిరి, కాకినాడ
5.	నిర్దిష్ట సరిహద్దు గల ప్రాంతాలు	రెవిన్యూ గ్రామాలు	
6.	రెవిన్యూ గ్రామానికి అనుబంధించబడిన నివాస గ్రామాలు	హమ్లెట్ ఆవాస ప్రాంతాలు	

3. నివాస ప్రాంతాలు ఎందుకు మారతాయి ?

జ. ప్రజలు నివసించే నివాస ప్రాంతాలు మారుటకు అనేక కారణాలు ఉన్నాయి. అవి :

1. జీవనోపాధి అవకాశాల కోసం వలస వెళ్ళడం.
 2. విద్యా, ఉద్యోగ సౌకర్యాల కోసం పెద్ద పట్టణాలకు, నగరాలకు వెళ్ళడం.
 3. మెరుగైన వైద్య సేవలు పొందుటకు నగరాలకు వెళ్ళడం.
 4. ఉద్యోగస్థులు తరుచుగా బదిలీ అవుతుండడం వల్ల వివిధ ప్రాంతాలకు వెళ్ళడం.
 5. వ్యాపార అవసరాల కొరకు వివిధ పట్టణాలు, నగరాలకు వెళ్ళడం.
 6. సారవంతమైన వ్యవసాయ భూములు లేని ప్రాంతాల నుండి సారవంతమైన వ్యవసాయ భూములు ఉన్న ప్రాంతాలకు వెళ్ళడం.
 7. వివిధ రంగాలలో ఉపాధి ఉద్యోగం పొందుటకు శిక్షణ నిమిత్తము పెద్ద పట్టణాలలో, నగరాలకు వెళ్ళడం.
 8. ఉమ్మడి కుటుంబాలు విడిపోయి వ్యక్తి కుటుంబాలు ఏర్పడడం వల్ల వేరే ప్రాంతాలకు వెళ్ళడం.
- పై కారణాల వల్ల నివాస ప్రాంతాలు మారుతూ ఉంటాయి.



8. ప్రజలు - వలసలు

I. భాషలను పూరింపుము.

1. అంటే ఒక వ్యక్తి పుట్టిన ప్రదేశము, (జన్మస్థలం)
2. రామయ్య హైదరాబాద్ కు వసల వచ్చిన ఒక (టీచర్)
3. భారతదేశంలో 2001 జనాభా లెక్కల ప్రకారం మంది వలస వెళ్ళారు. (30.7 కోట్లు)
4. ఆడవారిలో వలసకు ప్రధాన కారణం (వివాహం)
5. మగవారిలో వలసకు ప్రధాన కారణం లేక (ఉపాధి, ఉపాధికి అన్వేషణ)
6. జాతీయ జనాభా గణన ప్రకారం భారతదేశంలో ప్రతి వ్యక్తి వలస వచ్చిన వాళ్ళే. (నాల్గవ)
7. మహారాష్ట్రలో మొత్తం సహకార చక్కెర కర్మాగారాడల ఉన్నాయి. (186)
8. ఆనకట్ట కట్టిన తర్వాత మహారాష్ట్రలో పెద్దగా చెరకు సాగుచేస్తున్నారు. (కోయినా)
9. ప్రతి సంవత్సరం చెరకు నరకడానికి మధ్య మహారాష్ట్ర నుంచి పశ్చిమ మహారాష్ట్రకు కూలీలు వలస వెళతారు. (6,50,000)
10. మహారాష్ట్రలో చెరకు నరకు వలస కూలీల చిన్న గుడిసెలను అంటారు. (కోపి)
11. మహారాష్ట్రలో చెరకు నరకు కూలీల వలస ఒక ప్రాంతము నుండి మరొక ప్రాంతానికి వెళ్ళవచ్చు. (గ్రామీణ)
12. మనదేశంలో ఒక రాష్ట్రం నుండి మరో రాష్ట్రానికి వలస వెళ్ళిన వారు మంది. (13%)
13. భారతదేశంలోని వలస వెళ్ళిన వారిలో మంది రాష్ట్రంలోని ఒక ప్రాంతం నుండి మరో ప్రాంతానికి వలస వెళ్ళినవారు. (84.2%)
14. మహారాష్ట్రలోని చేపల ప్రాసెసింగ్ కర్మాగారాల్లో పనిచేయుటకు ఏటా నుండి 50,000 మంది మహిళలు వలస వెళతారు. (కేరళ)
15. జాతి పురుషులు ఒరిస్సాలోని గనులలో పనులు చేయుటకు వలస వెళతారు. (ముండా, సంతార్)
16. వలస కార్మికులకు పట్టణాలలో లో పని దొరకటం కష్టం. (వ్యవస్థీకృత రంగం)
17. కుటుంబ సభ్యులకు మరిన్ని అవకాశాలు అధిక ఆదాయాలు ఉంటాయన్న ఆశతో ప్రజలు వలస వెళతారు. (మెరుగైన సేవలు)
18. గిరిజన జాతికి చెందిన మగవాళ్ళు అస్సాంలోని తోటల పనికి వలస వెళతారు. (సవర)
19. భారతీయులు విదేశాలు వెళ్ళి పని చెయ్యడాన్ని పర్యవేక్షిస్తుంది. (వలసల చట్టం, 1983)
20. ఉద్యోగభద్రత ఉండే రంగం (వ్యవస్థీకృత రంగం)

21. వలస కార్మికులకు పని చూపిస్తారు. (గుత్తేదార్లు)
22. ఇండియా నుండి అమెరికాకు వలస వెళితే అది లేదా వలస అగును. (దేశం నుండి దేశానికి, అంతర్జాతీయ)
23. రూపాయి బలహీనపడడంతో 2013లో 6 నెలలు కాలంలో ప్రవాస కేరళీయులు కోట్ల రూపాయల జమ సాధించారు. (75,000)

ఒక మార్కు ప్రశ్నలు

1. ప్రజలు ఏ ఆశతో వలస వెళతారు ?
 - జ. కుటుంబ సభ్యులకు మరిన్ని అవకాశాలు అధిక, ఆదాయాలు, మెరుగైన సేవలు అందుతాయన్న ఆశతో.
2. పట్టణాలకు వలస వెళ్ళేవారు ఎక్కువగా ఏ రంగంలో పనిచేస్తారు ?
 - జ. అవ్వవస్త్రీకృతరంగంలో
3. U.A.E. ని విస్తరింపుము.
 - జ. యునైటెడ్ అరబ్ ఎమిరేట్స్
4. అంతర్జాతీయంగా వలసలు పోతున్న వారి సంఖ్య ఎంత ?
 - జ. UNO ప్రకారం 20 కోట్లు
5. 'కోపి' అనగానేమి ?
 - జ. మహారాష్ట్ర చెరకు వలస కార్మికులు వేసుకునే గుడిసెలు.
6. వలస ప్రజల రెండు సమస్యలు తెలుపుము.
 - జ. 1. పారిశుద్ధ్యం లేని వాతావరణ నివాస కారణంగా అనారోగ్యాలకు గురౌతారు.
 - 2. పనిచేయుచోట భద్రత లేమి కారణంగా తరచూ ప్రమాదాలకు గురౌతారు.
 - 3. వారి పిల్లలు Drop outs గా మారుతున్నారు.
 - 4. వలస కారణంగా చౌకధరల దుకాణాల ద్వారా లభించు రేషన్ అందురు.
7. వ్యవస్థీకృత రంగానికి ఒక ఉదాహరణ
 - జ. భారత రైల్వేలు.
8. అస్సాంలోని తోటల పనికి వెళ్ళువారు ఎవరు ?
 - జ. సవర గిరిజన జాతికి చెందిన పురుషులు.
9. కేరళ మహిళలు మహారాష్ట్రకు ఎందుకు వలస వెళతారు ?
 - జ. అచ్చటి చేపల ప్రొసెసింగ్ కర్మాగారాలలో పనిచెయ్యడానికి.

3. అంతర్జాతీయ వలసలకు వెళుతున్న విద్యావంతులైన భారతీయుల గురించి నీకేమి తెలుసు ?

- జ. 1. సాంకేతిక నైపుణ్యం, వృత్తి అనుభవం, ఉన్న వ్యక్తులు అమెరికా, U.K., కెనడా, ఆస్ట్రేలియా వంటి దేశాలకు వలస వెళుతున్నారు. ఉదా : డాక్టర్లు, ఇంజనీర్లు, ఐటీ మరియు మేనేజ్‌మెంట్ నిపుణులు.
2. 1950లో అభివృద్ధి చెందిన దేశాలకు సంవత్సరానికి 10,000 మంది వలస వెళ్ళగా 1990లో ఈ సంఖ్య 60,000కి పెరిగింది.
3. ఇలా వలస వెళ్ళిన వారి ఆధారిత కుటుంబాలు తమ ఆర్థిక సామాజిక స్థాయిని పెంచుకోగలిగారు.
4. అప్పులు తీర్చుకొని, జీవన స్థితిగతులు మెరుగుపరచుకొని, మెరుగైన వైద్యసేవలు పొందుతూ తమ ముందు తరాలవారికి మంచి జీవితాన్ని అందించే ప్రణాళికలతో ముందుకు సాగుతున్నారు.

II. A.S.No : II Reading the text given we Interpretating :

1. క్రింది ఉదాహరణలను అంతర్గత, అంతర్జాతీయ వలసలుగా వర్గీకరించండి.

- జ. 1. సాంకేతిక పనివాళ్ళుగా పనిచెయ్యడానికి భారత్ నుంచి U.A.E. కి వెళ్ళడం.
2. బీహారు నుండి పంజాబుకు వెళ్ళే వ్యవసాయ కూలీలు.
3. ఒడిశా నుండి ఆంధ్రప్రదేశ్ కి ఇటుకబట్టీలలో పనిచెయ్యడానికి వెళ్ళడం.
4. భారతీయ పిల్లలకు చైనీస్ భాష నేర్పడానికి చైనా నుంచి వచ్చే టీచర్లు.

- జ. 1. అంతర్జాతీయ వలస
2. అంతర్గత వలస
3. అంతర్గత వలస
4. అంతర్జాతీయ వలస

2. 1990 చివరి దశకంలో పశ్చిమ బెంగాల్ లో వరి పండించే ప్రాంత అధ్యయనంలో 5 లక్షల కంటే ఎక్కువ మంది వలస కూలీలు వరికోతల కాలంలో బర్ధమాన్ జిల్లాకు వెళతారని తెలిసింది. ఈ వలస కూలీలలో అధిక సంఖ్య గిరిజనులు ఇతర తక్కువ కులాల వాళ్ళు ప్రతి సంవత్సరం ఈ వలస కూలీల సంఖ్య పెరుగుతుంది. సవర గిరిజన జాతికి చెందిన మగవాళ్ళకు అస్సాంలోని తోటల పనికి వలస వెళ్ళే సుదీర్ఘ చరిత్ర ఉంది. ముండా, సంతాల్ జాతి పురుషులు ఒడిషాలోని గనులలో పనిచెయ్యడానికి వలస వెళతారు. మహారాష్ట్రలోని చేపల ప్రాసెసింగ్ కర్మాగారాల్లో పని చెయ్యటానికి ఏటా కేరళ నుండి 50,000 మహిళలు వలస వెళతారు.

1. ఈ అధ్యయనం ఏ రకమైన వలసకు చెందినది ?

- జ. అంతర్గత వలసకు చెందినది.
2. బర్ధమాన్ జిల్లా ఏ రాష్ట్రంలో ఉంది ?

జ. పశ్చిమ బెంగాల్ లో కలదు.

3. అధ్యయనం ఏ ప్రాంతానికి చెందినది ?

జ. వరి పండించే ప్రాంతానికి చెందినది.

4. ఒడిషా గనులలో ఎవరు పనిచెయ్యడానికి వెళతారు ?

జ. ముండా, సంతాల్ జాతి పురుషులు.

3. కుటుంబాలు వలస వెళ్ళినప్పుడు తల్లిదండ్రులతో పాటు వెళ్ళే చిన్న పిల్లలకు శిశు సంరక్షణ కేంద్రాలు ఉండవు. పెద్ద పిల్లలు కొత్త ప్రదేశంలో చదువు కొనసాగించే వీలు ఉండదు. వాళ్ళు స్వగ్రామానికి తిరిగి వెళ్ళినప్పుడు అక్కడి పాఠశాలలు కూడా వాళ్ళను మళ్ళీ చెప్పుకోరు. చివరికి వాళ్ళు బడికి వెళ్ళడం మానేస్తారు. కుటుంబంలో కేవలం మగవాళ్ళే వలస వెళ్ళినప్పుడు కుటుంబ బాధ్యతలు, వృద్ధుల సంరక్షణ భారం ఆడవారిపై పడుతుంది. ఇటువంటి కుటుంబాలలోని ఆడపిల్లల మీద తమ్ముళ్ళు చెల్లెళ్ళను చూసుకోవాల్సిన భారం ఉండి చివరికి చాలామంది బడి మానేస్తారు.

3. “వలసలు పిల్లలు మధ్యలోనే బడి మానడానికి కారణం అవుతన్నాయి” వ్యాఖ్యానించండి.

జ. 1. వలస కుటుంబాలలోని అధికశాతం పిల్లలు బడి మధ్యలోనే మానేస్తున్నారు. పేదరికమే ఈ వలసకు ప్రధాన కారణం ఆ పేదరికమే వలస కార్మికులు తమ పిల్లలను సైతం తమతో తీసుకువెళ్ళేలా చేస్తుంది.

2. స్థిరత్వం లేదు కనుక పిల్లలను శిశు సంరక్షణ కేంద్రాలలో వసతి గృహాలలో చేర్చే పరిస్థితి ఉండదు.

3. కొత్త ప్రదేశంలో చదువు కొనసాగించు అవకాశం కానీ తిరిగి స్వగ్రామానికి వెళ్ళినప్పుడు అక్కడి పాఠశాలలో తిరిగి చేర్చుకోవడం కానీ జరుగదు. చివరికి ఈ పిల్లలు బడి మానాల్సిన పరిస్థితి వస్తుంది.

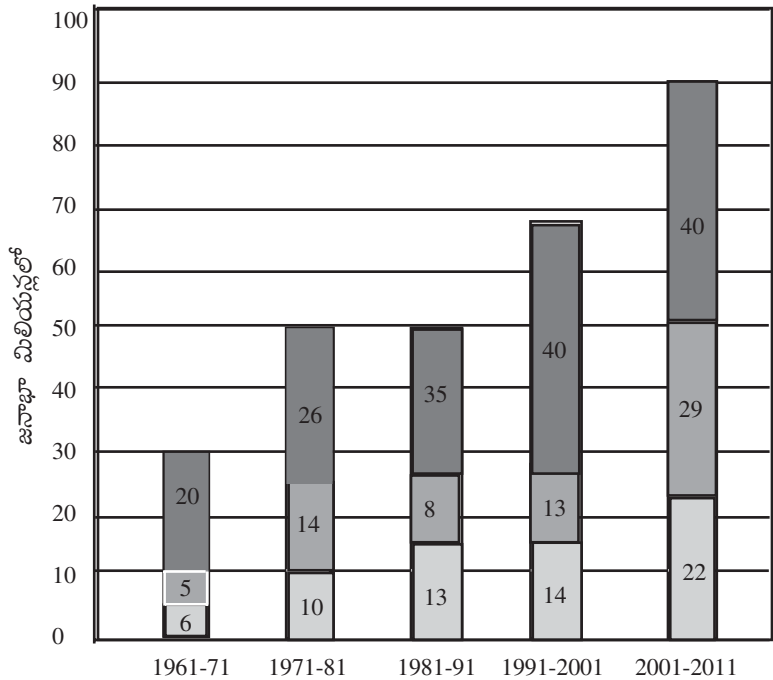
4. కొన్ని చోట్ల తమ్ముళ్ళను చెల్లెళ్ళను చూసుకోవాల్సిన బాధ్యత వలన కూడా విద్యార్థులు బడిమానవలసిన పరిస్థితులు ఏర్పడుతున్నాయి.

4. అంతర్గత అంతర్జాతీయ వలసల మధ్య పోలికల తేడాలు తెల్పుము.

జ.	అంతర్గత వలసలు	అంతర్జాతీయ వలసలు
	1. ఒక రాష్ట్రంనుండి మరొక రాష్ట్రానికి ఒకే రాష్ట్రంలో ఒక ప్రాంతం నుండి మరొక ప్రాంతానికి జరుగుతాయి.	1. భారత్ నుండి వివిధ ఇతర దేశాలకు జరుగుతాయి. ఉదా : U.S.A, U.K, OPEC, W.U.A.E. కు
	2. జీవనోపాధి లక్ష్యంగా ఉంటుంది.	2. ఉన్నత చదువులు, ఆర్థిక లాభం, లక్ష్యం.
	3. కుటుంబాలు నిలదొక్కుకుంటాయి. కనీస అవసరాలు తీర్చుకుంటాయి.	3. వలస వెళ్ళిన వారి కుటుంబం, ప్రాంతం రాష్ట్రం సైతం ధనంతో లాభపడతాయి. ఉదా : కేరళ ప్రజలు తలసరి సగటు వినియోగం దేశ సగటు కంటే 40% ఎక్కువ కావటానికి ఈ వలసే ప్రధాన కారణం.
	4. తమ వృత్తి నైపుణ్యాలక ఇతర ప్రాంతాలకు విస్తరిస్తారు.	4. విదేశీ మారక ద్రవ్యాన్ని ఆర్జిస్తారు.

III. A.S.No. 3 : Information Skills:

1. క్రింది గ్రాఫ్ను పరిశీలించి ప్రతి దశాబ్ద కాలానికి జనాభా యొక్క పెరుగుదల ఎన్ని మిలియన్లలో తెలుపుము.



గ్రాఫ్ 1 : 1961-2011 ల మధ్య భారతదేశంలో పట్టణ జనాభా పెరుగుదల

- సహజ పెరుగుదల
- గ్రామీణ ప్రాంతాలను పట్టణ ప్రాంతాలుగా ప్రకటించుట వల్ల, పట్టణ ప్రాంతాలను విస్తరణ వల్ల
- గ్రామీణ ప్రాంతాల నుంచి పట్టణ ప్రాంతాలకు వలస వెళ్ళటం వల్ల

- జ. 1961-1971 : 20 మిలియన్లు
- 1971-81 : 26 మిలియన్లు
- 1981-91 : 35 మిలియన్లు
- 1991-2001 : 40 మిలియన్లు
- 2001-2011 : 40 మిలియన్లు

2. “పంచదార పట్టీ”కి చెందిన సమాచారమేదైనా నీ వద్ద కలదా ?

- జ. 1. పశ్చిమ మహారాష్ట్రలోని ఏడు జిల్లాలయిన నాసిక్, అహ్మద్ నగర్, పూనా, సతారా, కోల్హాపూర్, షోలాపూర్లను పంచదార పట్టీ అని అంటారని తెలుసు.
- 2. ఈ పంచదార పట్టీ ఉత్తరాన సూర్ (గుజరాత్)లోకి దక్షిణాన బెల్గాం (కర్ణాటక)లోకి విస్తరిస్తుంది. ప్రతి ఏటా ఇచ్చటికి చెరుకు నరుకు వలస కూలీలు వచ్చి కోపీలలో నివసిస్తూ 6 నెలలపాటు పనిచేస్తారు.

IV. A.S.No. 4 : Responding towards contemporary issues :

1. గ్రామీణ ప్రాంతాల నుండి పట్టణ ప్రాంతాలకు వలస వెళ్ళడం వలన గ్రామీణ ప్రాంతాల ప్రజల కొనుగోలు శక్తి ఎలా పెరుగుతుంది ?

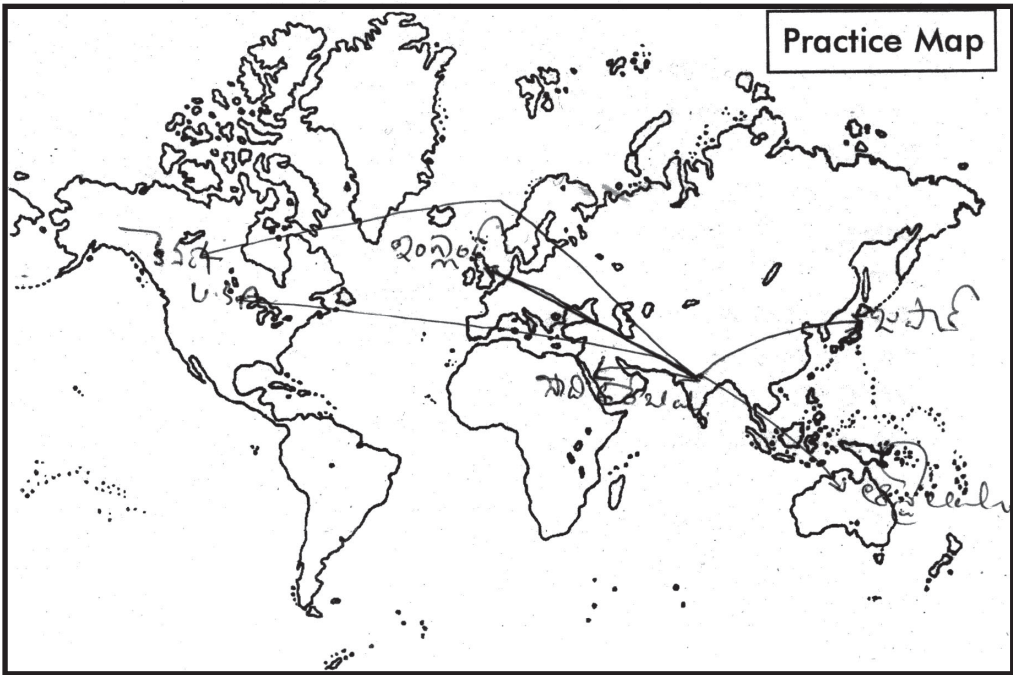
- జ. 1. పట్టణాలకు వలస వెళ్ళిన వారు ఇంటికి డబ్బు పంపిస్తారు. లేదా ఊరికి వచ్చేటప్పుడు తెచ్చి తను కుటుంబాలకు ఇస్తారు.
- 2. పట్టణాలలో వీరికి వ్యవస్థీకృతరంగంలో కూడా నైపుణ్యాలకు ఆధారంగా ఉపాధి దొరకు అవకాశాలు ఉంటాయి.

3. వలస వెళ్ళడం వలన ఆస్తులు అమ్ముకోకుండానే అప్పులు తీర్చుకుంటారు.
 4. మెరుగైన జీవన పరిస్థితులు కల్పించుకొని, ఇల్లు, భూమి, వ్యవసాయ పరికరాలు వినియోగ వస్తువులు కొనడాన్ని మనం గమనించవచ్చు.
2. వలస వెళ్ళిన ప్రజలు ఎటువంటి ఇబ్బందులు ఎదుర్కోవడాన్ని నీవు గమనించావో తెలుపుము.
- జ. 1. చాలా తీవ్రమైన పరిస్థితులలోనూ, పారిశుద్ధ్యం లేని వాతావరణంలోనూ నివసించాల్సి రావడం వల్ల వాళ్ళు అనేక అనారోగ్యాలకు, రోగాలకు గురి అవుతారు.
2. గనులు, ఇటుక బట్టీలు, నిర్మాణ పనులలో పనివల్ల వాళ్ళు ఒళ్ళు నొప్పులు, వడదెబ్బ, చర్మవ్యాధులు, ఊపిరితిత్తుల వ్యాధులకు గురి అవుతారు.
3. రోడ్డు ప్రమాదాలలో పనిచేసే చోట ప్రమాదాలలో అనేమంది చనిపోతున్నారు.
4. మహిళల పట్ల అమానవీయ చర్యలకు పాల్పడ్డ యజమానులు ఉన్నారు. వలస కార్మికుల పిల్లల చదువులు లేక సరైన పోషణ లేక అవస్థలు పడుతున్నారు.
3. పశ్చిమ ఆసియా దేశాలలో భారతదేశం నుండి నైపుణ్యం లేని కార్మికులనే ఎందుకు కోరుకుంటున్నారు ?
- జ. 1. పశ్చిమ ఆసియా దేశాలైన సౌదీ అరేబియా, U.A.E. వంటి దేశాలలో భవన నిర్మాణం, మరమ్మత్తుల నిర్వహణ, సేవలు, రవాణా, టెలీ కమ్యూనికేషన్ రంగాలలో కార్మికుల కొరకు ఎక్కువగా ఉంటుంది. అందులో వీరు భారతదేశం నుండి నైపుణ్యం లేని కార్మికులనే కోరుకుంటున్నారు.
2. ఇటువంటి కార్మికులను U.A.E.కి పంపడంలో ఏజెంట్లు కీలక పాత్ర పోషిస్తున్నారు.

V. A.S.No. 5 : Mapping Skills :

1. మీకివ్వబడిన ప్రపంచ పటములో భారతదేశం నుండి ఐ.టి. నిపుణులు, డాక్టర్లు, ఇంజనీర్లు వలస వెళుతున్న ఏదేని 5 దేశాలను చూపిస్తూ బాణం గుర్తులు వేయండి.

జ.



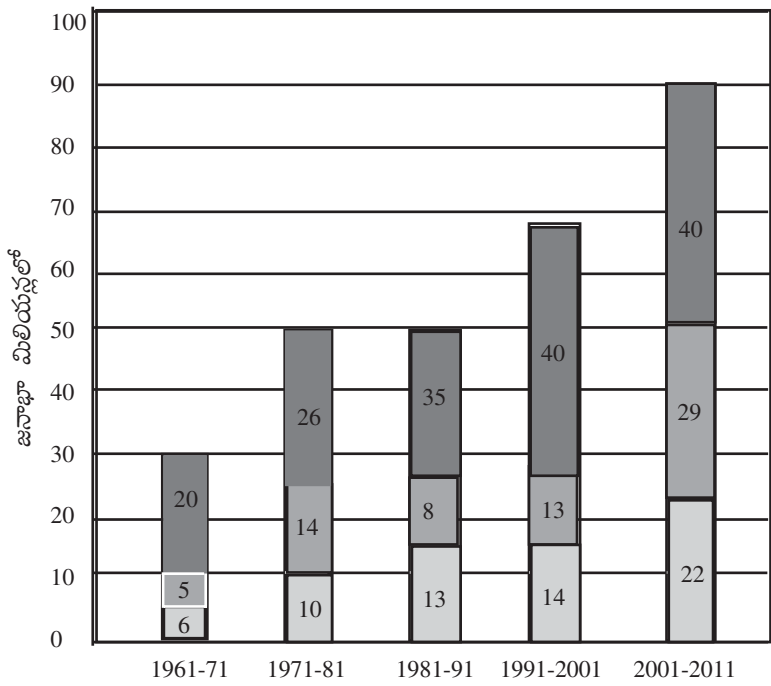
VI. A.S.No. VI : Appreciation of Sensitivity :

1. వలస వెళ్ళిన వాళ్ళు ఆ ప్రాంతంలో సమస్యలు సృష్టాస్తారా/సమస్యలకు కారణం అవుతారా ? మీ సమాధానానికి కారణాలు ఇవ్వండి.
- జ. 1. వలస వెళ్ళినవారు ఆ ప్రాంతంలో సమస్యలు సృష్టించారు. సమస్యలకు కారణం కారు. ఎందువలన అనగా వీరు కేవలం ఉపాధి కోసం వలస వెళ్ళిన వారు. తమ రక్షణలో తాము ఉంటారు. ఇతరులకు సమస్య కావడం ఇష్టపడరు.
2. అయితే శాశ్వత వలసలు వెళ్ళి వ్యవస్థీకృతరంగంలో స్థిరపడిన కార్మికులు తమ హక్కుల కోసం పోరాటాలు చేస్తారు. స్థిరపడిన ప్రాంత సామాజిక, రాజకీయ, ఆర్థిక, శాస్త్రీయ ప్రగతికి దోహదం చేస్తారు.

ఉదా : నేటి అగ్రరాజ్యం అమెరికా కూడా ఒకప్పటి ఇంగ్లాండ్ వలస.

నాలుగు మార్కుల ప్రశ్నలు

1. అంతర్గత, అంతర్జాతీయ వలసల ప్రభావాల మధ్య పోలికలను, తేడాలను రాయండి. (AS 2)
2. వలస కుటుంబాలలోని ప్లిలలు బడికవ వెళ్ళడంలో గల ఇబ్బందులను చర్చించండి. (AS 4)
3. ప్రజలు వలస వెళ్ళినపుడు ఏమవుతుంది ? చర్చించండి. (AS 1)
4. క్రింది గ్రాఫ్ను పరిశీలించి 1961-2011 మధ్యకాలంలో వలసల ప్రభావాన్ని చూపడానికి ఒకపట్టిక తయారు చేయుము. (AS 3)

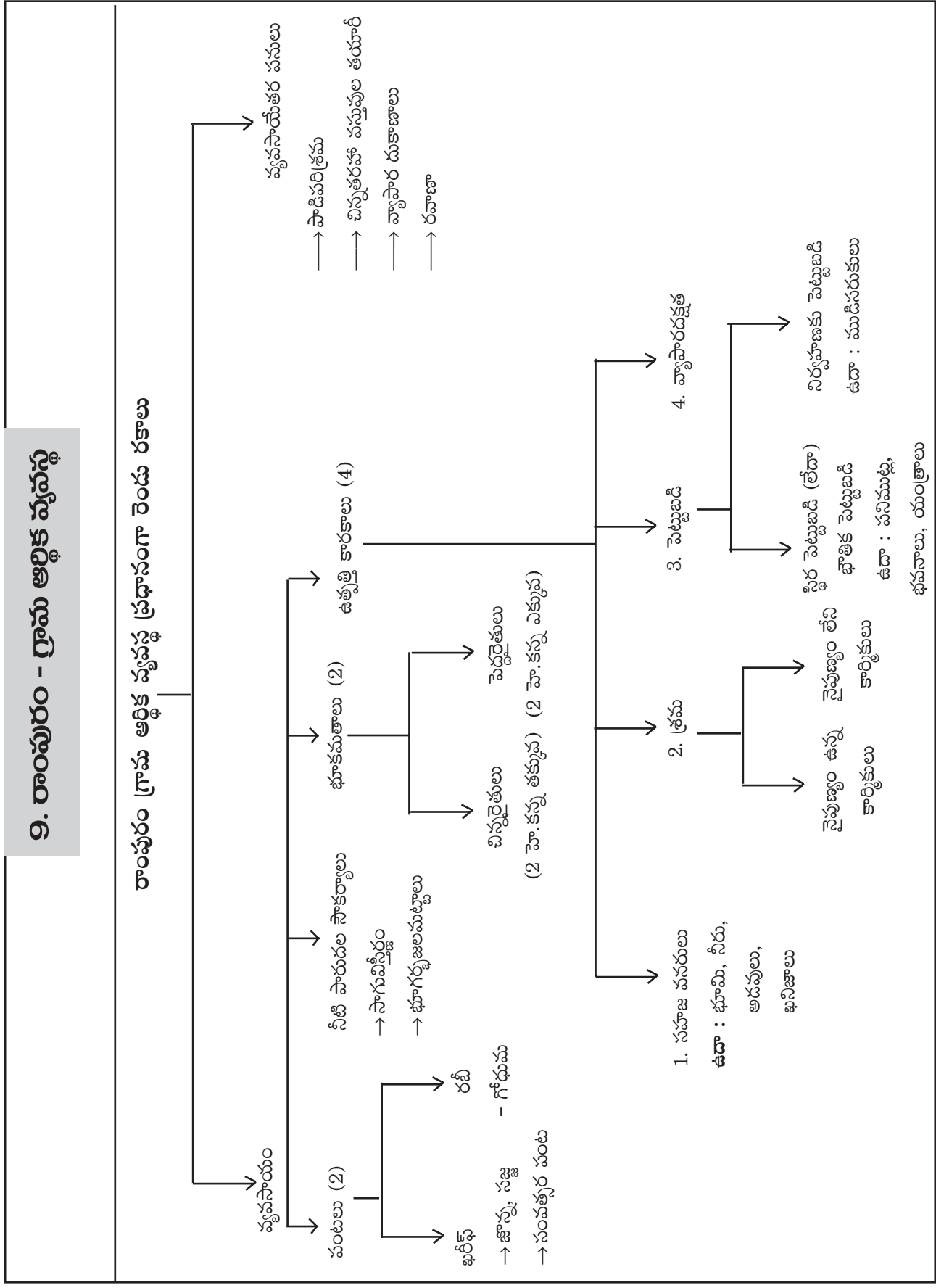


గ్రాఫ్ 1 : 1961-2011 ల మధ్య భారతదేశంలో పట్టణ జనాభా పెరుగుదల

- సహజ పెరుగుదల
- ▒ గ్రామీణ ప్రాంతాలను పట్టణ ప్రాంతాలుగా ప్రకటించుట వల్ల, పట్టణ ప్రాంతాలను విస్తరణ వల్ల
- గ్రామీణ ప్రాంతాల నుంచి పట్టణ ప్రాంతాలకు వలస వెళ్ళటం వల్ల

జ.	సంవత్సరం	మొత్తం జనాభా	సహజ పెరుగుదల	పట్టణీకరణ కారణంగా పెరిగిన జనాభా	వలసల కారణంగా పెరిగిన జనాభా
	1961-71	31 మిలియన్లు	20 మిలియన్లు	5 మిలియన్లు	6 మిలియన్లు
	1971-81	50 మిలియన్లు	26 మిలియన్లు	14 మిలియన్లు	10 మిలియన్లు
	1981-91	56 మిలియన్లు	35 మిలియన్లు	8 మిలియన్లు	13 మిలియన్లు
	1991-2001	67 మిలియన్లు	40 మిలియన్లు	13 మిలియన్లు	14 మిలియన్లు
	2001-2011	91 మిలియన్లు	40 మిలియన్లు	29 మిలియన్లు	22 మిలియన్లు





I. ఒక మార్కు ప్రశ్నలు

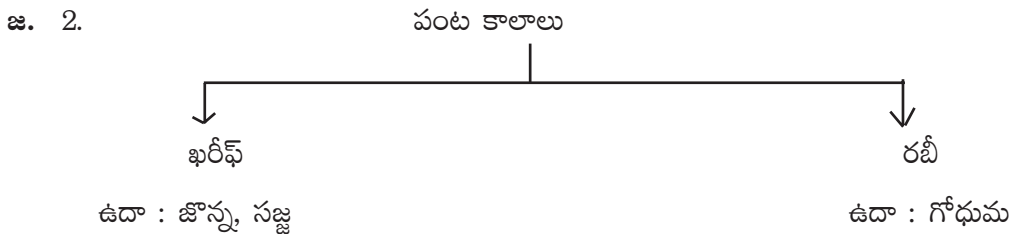
1. బహుళ పంటల సాగు అంటే ఏమిటి ?

జ. ఒకే విస్తీర్ణంలో సంవత్సరంలో ఒకటి కంటే ఎక్కువ పంటలను సాగు చేయడాన్ని “బహుళ పంటల సాగు” అంటారు. (మూడు పంటల కంటే ఎక్కువ).

2. ఉత్పత్తి కారణాలేవి ?

జ. 1) భూమి 2) శ్రమ
3) భౌతిక పెట్టుబడి, నిర్వహణ పెట్టుబడి 4) వ్యాపార దక్షత / జ్ఞానం.

3. పంటకాలాలు ఎన్ని అవి ఏవి ?



4. చలికాలపు పంట అని దేనిని అంటారు ?

జ. గోధుమ (రబీ)

5. రైతులు బావుల నుంచి నీళ్ళు పైకి తోడటానికి ఏ పరికరాన్ని ఉపయోగించేవారు ?

జ. పర్షియన్ వీల్

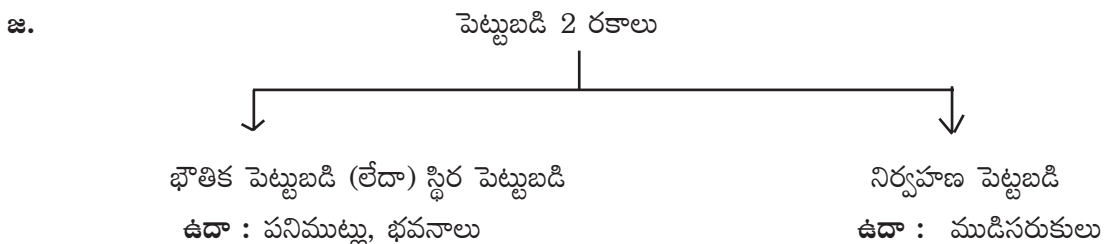
6. వర్షాకాలపు పంట ఏది ?

జ. ఖరీఫ్

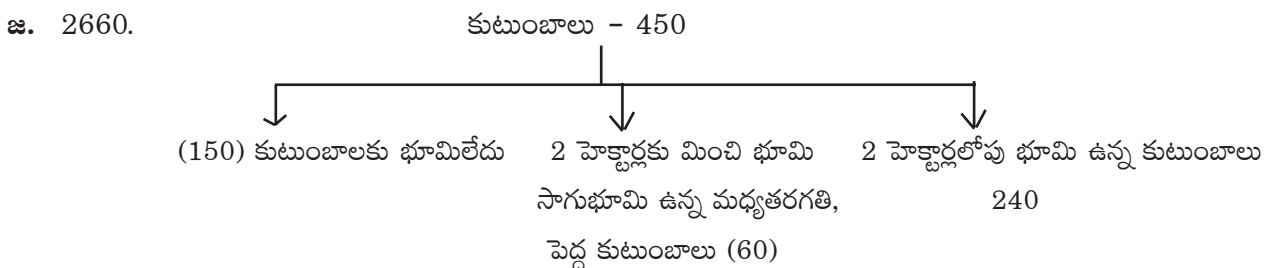
7. చిన్న రైతులని ఎవరిని అంటారు ?

జ. 2 హెక్టార్ల కంటే తక్కువ విస్తీర్ణం భూమి గల రైతులను చిన్న రైతులంటారు.

8. పెట్టుబడి ఎన్ని రకాలు ?



9. రాంపురం జనాభా ఎంత ?

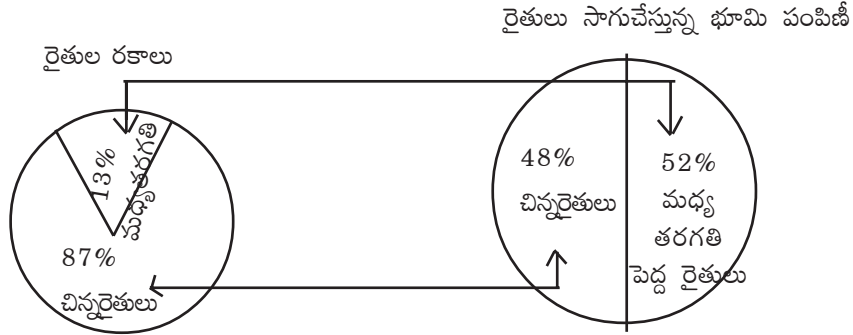


10. ఉత్పత్తి ఉద్దేశ్యము ఏది ?
జ. ప్రజలకు అవసరమైన వస్తువులు, సేవలను అందించడం.
11. గ్రామీణ కార్మికులకు అదనపు ఆదాయాన్నిచ్చే ప్రభుత్వ పథకం ఏది ?
జ. మహాత్మాగాంధీ జాతీయ గ్రామీణ ఉపాధి హామీ పథకం.
12. భూమిని కొలవడానికి ప్రామాణిక కొలమానము ?
జ. హెక్టారు.
13. రాంపురంలోని పనిచేసే వాళ్ళల్లో ఎంతశాతం మంది మాత్రమే వ్యవసాయేతర పనుల్లో ఉన్నారు ?
జ. 25%
14. ప్రస్తుతం దేశంలోని సాగు విస్తీర్ణంలో ఎంత శాతానికంటే తక్కువ విస్తీర్ణానికి సాగునీటి సదుపాయం ఉంది ?
జ. 40%
15. భూమి అనగానేమి ?
జ. ఒక సహజ ఉత్పత్తికారకము
ఉదా : భూమి, నీళ్ళు, అడవులు, ఖనిజాలు.
16. శ్రమ అనగానేమి ?
జ. శ్రమ అనగా కేవలం కార్మికులు చేసే శారీరక శ్రమే కాకుండా ఉత్పత్తికి అవసరమైన మానవ ప్రయత్నాలన్నింటినీ ఇది సూచిస్తుంది.
17. నిర్వహణ పెట్టుబడి అనగానేమి ?
జ. ఉత్పత్తి ప్రక్రియలో ఉపయోగించే ముడిసరుకును, ఖర్చు చేయవలసిన డబ్బును నిర్వహక పెట్టుబడి అంటారు.
18. స్థిరపెట్టుబడి అనగానేమి ?
జ. రైతులు ఉపయోగించే నాగలి నుండి ట్రాక్టరు వరకు అనేక పనిముట్లు కొనుగోలు, మరమ్మత్తు, నిర్వహణకయ్యే ఖర్చును స్థిరపెట్టుబడి అంటారు.

రెండు మార్కుల ప్రశ్నలు

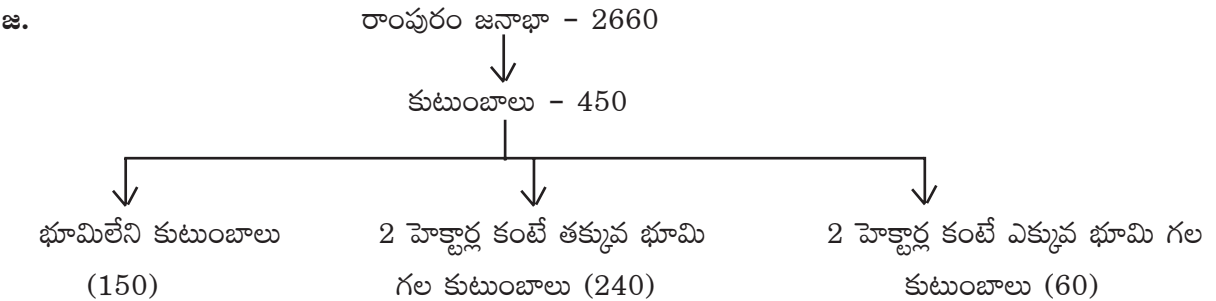
1. గ్రామీణ ప్రాంతాలలో “బహుళ పంటలు” సాగుచేయడానికి దోహదపడే కారణాలు ఏమిటి ? (As1)(విషయావగాహన)
జ. గ్రామీణ ప్రాంతాలలో బహుళ పంటలు సాగుచేయుటకు దోహదపడే అంశాలు :
 1. సారవంతమైన నేల
 2. సాగునీరు లభ్యత
 3. కాలానుగుణంగా పంటలు మార్చే నేర్పుగల అనుభవనీయులైన రైతులు
 4. వ్యవసాయ కూలీల అందుబాటు.
2. అనేక మంది చిన్న కమతాలను ఎందుకు సాగుచేస్తున్నారు ? (As4)(సమకాలీన అంశాల ప్రతిస్పందన)
జ. అనేకమంది చిన్న చిన్న కమతాలను సాగుచేయుటకు కారణాలు :
 1. రైతులు సామాజిక హోదా
 2. భూమి రైతుకు పరపతిని ఏర్పాటు చేస్తుంది.
 3. తన పొలంలో పండే పంట తింటున్నాననే తృప్తి

4. ఈ చిన్న కమతాలలో రెండు, మూడవ పంటలగా వాణిజ్య పంటలు వేసి ఆర్థికంగా అవసరాలు తీర్చుకుంటారు.
 5. చిన్న కమతాలలో వ్యవసాయం, చేసుకుంటూ, మిగతా సమయాలలో ఇతరుల పనికి కూలీకి వెళ్ళటం, వ్యాపారాలు చేయటం వంటివి చెప్తారు.
3. ఈ క్రింది వృత్తాలను పరిశీలించండి. భారతదేశంలో సాగుభూమి పంపిణీలో అసమానతలు ఉన్నాయని మీరు అంగీకరిస్తారా? మీసమాధానానికి వివరణ ఇవ్వండి. (As2)(వ్యాఖ్యానించడం)



- జ. 1. భారతదేశంలో సాగుభూమి పంపిణీలో అసమానతలను బాణం గుర్తులు సూచిస్తున్నాయి.
 2. రైతు జనాభాలో కేవలం 13% గల మధ్యతరగతి, 52% సాగుభూమి కలిగి ఉంది.
 3. 87% చిన్నరైతుల వద్ద కేవలం 48% భూమి మాత్రమే ఉంది.
 4. దేశంలోకి అత్యధిక సాగుభూమి కొద్దిమంది రైతుల చేతులలోనే ఉంది.
4. రాంపురం గ్రామంలోని వ్యవసాయేతర కార్యక్రమాలు ఏవి ? (As1)
- జ. వ్యవసాయేతర కార్యక్రమాలు :
1. పాడి పరిశ్రమ
 2. చిన్నతరహా పరిశ్రమ
 3. బెల్లం తయారీ
 4. దుకాణాల నిర్వహణ
 5. రవాణా

5. రాంపురం గ్రామంలో భూపంపిణీ గురించి వివరించండి. (As1)



6. రాంపురంలోని వ్యవసాయ కూలీలకు కనీస కూలీ కంటే తక్కువ కూలీ ఎందుకు లభిస్తుంది ?
- జ. 1. రాంపురంలో పనికోసం వ్యవసాయ కూలీల మధ్య తీవ్ర పోటీ ఉంది. తక్కువ కులాలైన పనిచేయటానికి ప్రజలు సిద్ధపడతారు.

2. పెద్ద రైతులు, ట్రాక్టర్లు, పంటకోత యంత్రాలపై ఆధారపడటంతో గ్రామీణ ప్రాంతాలలో కూలీలకు లభించే పనిదినాలు తగ్గిపోతున్నాయి.
3. అందుచే రాంపురంలోని వ్యవసాయ కూలీలకు కనీస కూలికంటే తక్కువ కూలీ లభిస్తుంది.

నాలుగు మార్కుల ప్రశ్నలు

1. పట్టణ ప్రాంతాలలో వస్తువుల ఉత్పత్తికి కూడ భూమి అవసరం. గ్రామీణ ప్రాంతంలో భూవినియోగానికి, దీనికి తేడా ఏమిటి ? (అవగాహన)

జ.	పట్టణ ప్రాంతంలో వస్తువుల ఉత్పత్తి	గ్రామీణ ప్రాంతంలో భూవినియోగం
	1. పట్టణ ప్రాంతాల్లో భూమి గృహనిర్మాణానికి వ్యాపార సంబంధ నిర్మాణాలకు వినియోగిస్తారు.	1. గ్రామీణ ప్రాంతాలలో భూమి పంటలు పండించడానికి , తోటల పెంపకానికి వినియోగిస్తారు.
	2. పరిమిత స్థలంలో ప్రణాళికా బద్ధంగా వస్తూత్పత్తి జరుపుకోవాలి.	2. అవసరమైన స్థలం లభిస్తుంది.
	3. ఈ ప్రాంతాల్లో భూమిరెట్లు అత్యధికం.	3. గ్రామీణ ప్రాంతాలలో భూములు రేట్లు సాధారణంగా ఉంటాయి.
	4. పట్టణ ప్రాంతాలలో స్వంత భూమిలేకున్న లీజుకు భూమి తీసుకొని వస్తూత్పత్తి చేస్తారు.	4. గ్రామీణ ప్రాంతాలలో సాధారణంగా భూమి కొనుగోలు చేసి వినియోగిస్తారు.

2. ఒకే విస్తీర్ణంలో ఉన్న భూమి నుంచి ఉత్పత్తిని పెంచటానికి ఉన్న వివిధ పద్ధతులు ఏమిటి ? కొన్ని ఉదాహరణలతో వివరించండి. (అవగాహన)

- జ. 1. భూమినుంచి ఉత్పత్తిని పెంచటానికి అత్యంత సాధారణమైన పద్ధతి - బహుళ పంటలసాగు.
2. ఒకే విస్తీర్ణంలో సంవత్సరంలో ఒకటి కంటే ఎక్కువ పంటలను సాగుచేయడాన్ని బహుళ పంటలసాగు అంటారు.
3. ఎల్లప్పుడూ నీరు అందుబాటులో ఉండేటట్లు, సాగునీటి సదుపాయాలను మెరుగుపరచటం.
4. అనువైన చోట అంతర్ పంటసాగు చేయటం.
5. భూమి సారాన్ని పోగొట్టకుండా ఉండేందుకు పంటమార్పిడి విధానం అమలు చేయడం.
6. అధిక దిగుబడినిచ్చే వంగడాలు వినియోగం, సస్యరక్షణ చర్యలు చేపట్టడము.

3. క్రింది పట్టికను చదవండి. ప్రశ్నలకు సమాధానం రాయండి.

పట్టిక : డిసెంబరు 2011లో వివిధ వ్యవసాయ పనులకు ఆంధ్రప్రదేశ్‌లో రోజువారి కూలీ రేట్లు (రూపాయలలో)

కార్మికులు	దున్నటం	విత్తటం	కలుపుతీయటం	నాట్లు వేయటం	కోత	పోత	మార్పిడి	పత్తి ఏరడం
పురుషులు	214	197	215	-	164	168	152	-
స్త్రీలు	-	152	130	143	126	124	118	136

(As - 3)(సమాచార నైపుణ్యాలు)

A) కేవలం పురుషులు మాత్రమే చేస్తున్న పనులేవి ?

జ. దున్నటం

B) కేవలం స్త్రీలు మాత్రమే చేస్తున్న పనులేవి ?

జ. నాట్లు వేయడం, పత్తి ఏరడం

C) ఏవి పనుల్లో స్త్రీ పురుషుడు కూలీలలో ఎక్కువ వ్యత్యాసం ఉంది ?

జ. కలుపుతీయడం, విత్తటం.

D) ఒక పనికి ఆడవాళ్ళ కంటే మగవాళ్ళకు ఎక్కువ కూలీ ఎందుకు లభిస్తుంది ?

జ. ఆడవారి కంటే మగవారు ఎక్కువ పనిచేయగలరనే భావన వలన ఒక పనిని ఆడవారి కంటే మగవారికి ఎక్కువ కూలీ ఇస్తున్నారు.

4. ఈ క్రింది పేరాను చదివి ప్రశ్నలకు జవాబులు వ్రాయుము.

రాంపురంలో అనేక కుటుంబాలు పాలు ఉత్పత్తి చేస్తాయి. గేదెలకు వివిధ రకాల గడ్డి, వానాకాలంలో సాగుచేసే జొన్న, సజ్జ, మేతను మేపుతారు. రాయిగంజ్లో పాలు అమ్ముతారు. జహంగీరాబాదుకు చెందిన ఇద్దరు వ్యాపారస్తులు రాయిగంజ్లో పాల సేకరణ, శీతలీకరణ కేంద్రాలను ఏర్పాటు చేస్తారు. పాలను వీళ్ళు బులంద్‌షహర్, ఢిల్లీ వంటి దూర ప్రదేశాలకు రవాణా చేస్తారు. ఈ పనిలోని ఉత్పత్తి కారకాలు.

1. భూమి - గ్రామంలో కొట్టం
2. శ్రమ - మహిళలు గేదెల పోషణ
3. భౌతిక పెట్టుబడి - పశువుల సంతలో కొన్న గేదెలు
4. నిర్వహణ పెట్టుబడి - పశువుల మేత, మందులు

ప్రశ్నలు :

1. జొన్న, సజ్జలు ఏ కాలపు పంటలు ?

జ. వానాకాలపు పంటలు.

2. ఉత్పత్తి కారకాలు ఏవి ?

జ. షేడ్లు, మహిళలు గేదెల పోషణ, గేదెలు కొనడం, పశువుల మేత
(భూమి) (శ్రమ) (చేతికి పెట్టుబడి) నిర్వహణ పెట్టుబడి

3. పాలకు శీతలీకరణ కేంద్రాలు ఎందుకు అవసరం ?

జ. పాలు పాడయిపోకుండా ఉండటానికి శీతలీకరణ కేంద్రాలు అవసరం.

4. పాలను ఏయే పట్టణాలకు రవాణా చేస్తారు ?

జ. ఢిల్లీ, బులంద్‌షహర్

10. ప్రపంచీకరణ

I. ఈ క్రింది ఖాళీలను పూరింపుము.

1. 20వ శతాబ్దం చివరలో ప్రపంచ వ్యాప్తంగా జరిగిన ముఖ్యమైన పరిణమాల్లో ఒకటి. (ప్రపంచీకరణ)
2. ఎక్కువ దేశాలలో ఉత్పత్తిని నియంత్రించే సంస్థలను అంటారు. (బహుళజాతి)
3. ఉన్న ప్రజలు వలసకు గిరాకీ ఉంది. (వృత్తి నైపుణ్యాలు)
4. బహుళజాతి కంపెనీలు, ఆయాదేశాల స్థానిక కంపెనీలు కలిసి ఉత్పత్తి చేపడితే వాటిని అంటారు. (జాయింట్ వెంచర్లు)
5. వాణిజ్య ప్రయోజనాల కోసం భారతదేశానికి వచ్చిన కంపెనీ (ఫోర్డ్ కంపెనీ (ఇది అమెరికాకు చెందిన కంపెనీ))
6. సం॥ నుండి దీర్ఘకాల ప్రభావం చూపించేలా భారతదేశ విధానాలలో మార్పులు చేశారు. (1991)
7. WTO అనగా (వరల్డ్ ట్రేడ్ ఆర్గనైజేషన్ (World Trade Organization))
8. WTOలో సభ్యదేశాల సంఖ్య (150)
9. వేగంగా ప్రపంచంలోని దేశాల మధ్య పెరుగుతున్న అనుసంధానాన్ని అంటారు. (ప్రపంచీకరణ)
10. ఒకదేశం ఇతర దేశాలతో జరుపు వాణిజ్యాన్ని అంటారు. (విదేశీ వాణిజ్యం)
11. బహుళజాతి సంస్థలు ల ద్వారా సేవలు అందిస్తాయి. (వినియోగదారుల సేవ)
12. భారతదేశంలో ఇంగ్లీషు మాట్లాడగలిగిన విద్యావంతులైన యువత సేవలను అందిస్తున్నారు. (కస్టమర్ కేర్)
13. ప్రభుత్వం విధించిన అవరోధాలను, పరిమితులను తొలగించటాన్ని అంటారు. (ఆర్థిక సరళీకరణ)
14. SEZ అనగా (Special Economic Zone (ప్రత్యేక ఆర్థిక మండలి))
15. ఫోర్డ్ మోటార్స్ అనే అమెరికా కంపెనీ భారతదేశంలోని కంపెనీలో కలిసి చెన్నై దగ్గర కర్మాగారాన్ని నెలకొల్పింది. (మహింద్ర & మహింద్ర)
16. ప్రపంచీకరణ దేశాలను అనుసంధానం చేయటం వల్ల ఉత్పత్తిదారుల మధ్య పోటీని (పెంచుతుంది)
17. దిగుమతి మరియు ఎగుమతి చేసుకునే సరుకుల సంఖ్య, మోతాదుపై కూడా ప్రభుత్వం విధించే పరిమితిని అంటారు. (కోటాలు)
18. అమెరికా స్థూల దేశీయోత్పత్తిలో వ్యవసాయం వాటా (1%)
19. IRDB ని విస్తరించగా (పునర్నిర్మాణం, అభివృద్ధికి అంతర్జాతీయ బ్యాంకు (or) International Bank Re-construciton and Development)
20. IMF ని విస్తరించగా (అంతర్జాతీయ ద్రవ్యనిధి (International Monetary Fund))

6. దేశాల మధ్య వాణిజ్యం మరింత న్యాయపూరితంగా ఉండటానికి ఏం చేయవచ్చు ? (As 2)

జ. అన్ని దేశాలు అవరోధాలు తొలగించాలి. అభివృద్ధి చెందిన దేశాలు దీనికి మినహాయింపు కారాదు.

7. చైనా బొమ్మలు భారతదేశంలో ఎందుకు ఆదరణ పొందాయి ? (As 1)

జ. చైనా బొమ్మలు కొత్త డిజైన్లు, తక్కువ ధర కారణంగా భారతదేశంలో ఆదరణ పొందాయి.

8. ఇంటర్నెట్ ద్వారా తక్షణమే పంపే సమాచారాన్ని ఏమంటారు ? (As 4)

జ. ఇంటర్నెట్ ద్వారా తక్షణమే పంపే సమాచారాన్ని ఎలక్ట్రానిక్ మెయిల్ (e-mail) అంటారు.

9. అరబ్ వసంతం అంటే ఏమిటి ? (As 1)

జ. 2013వ సం॥లో పశ్చిమ ఆసియా, ఉత్తర ఆఫ్రికాలలోని టునేసియా, ఈజిప్టు వంటి దేశాలు విప్లవాల విషయంలో నియంతల పాలనను అంతమొందించే విషయంలో ఒకదానిపై మరొకటి ప్రభావాన్ని కల్పించాయి. ప్రసార మాధ్యమాలలో దీనిని అరబ్ వసంతంగా పేర్కొన్నారు.

10. కోటాలు అనగానేమి ? (As 1)

జ. స్థానికంగా ఉన్న కొనుగోలుదారులు (లేదా వినియోగదారుల) మరియు అమ్మకపుదారులు (లేదా ఉత్పత్తిదారుల) ప్రయోజనాలను కాపాడటం కోసం ఎగుమతుల మరియు దిగుమతులపై ప్రభుత్వం విధించే పరిమితులను కోటాలు అంటారు.

రెండు మార్కుల ప్రశ్నలు

1. కార్మిక చట్టాల సడలింపు కంపెనీలకు ఏ విధంగా సహాయపడుతుంది ? (As 1)

జ. కార్మిక చట్టాల సడలింపు వలన కంపెనీకి కార్మికుల పైన అయ్యే ఖర్చు తగ్గుతుంది. దీని మూలంగా కార్మికులను దీర్ఘకాలిక ప్రాతిపదిక కాకుండా పని ఒత్తిడిని బట్టి తక్కువ కాలవ్యవధికి నియమించుకొనే అవకాశం ఉంది.

2. వాణిజ్య పెట్టుబడి విధానాలను సరళీకరించటం వల్ల ప్రపంచీకరణ ప్రక్రియకు మేలు ఎలా జరిగింది ? (As 4)

జ. వాణిజ్య పెట్టుబడి విధానాలను సరళీకరించటం వలన సాంకేతిక పరిజ్ఞానం శరవేగంతో విస్తరించి ప్రపంచీకరణకు దోహదం చేసాయి. టెలికమ్యూనికేషన్ రంగం గణనీయంగా అభివృద్ధి చెందడంలో ప్రపంచమే ఓ కుగ్రామంగా మారిపోయింది. వాయిస్ మెయిల్, ఎలక్ట్రానిక్ మెయిల్స్ తో నామమాత్రపు ఖర్చుతో సమాచారం ప్రపంచంలో ఎక్కడికైనా చేరవచ్చు.

3. “ప్రపంచీకరణ ప్రభావం ఒకే రకంగా లేదు? ఈ వాక్యాన్ని వివరించండి.

జ. ప్రపంచీకరణ వల్ల అందరూ ప్రయోజనం పొందలేదని తెలుస్తోంది. విద్య, నైపుణ్యం, సంపద ఉన్నవాళ్ళు కొత్త అవకాశాల వల్ల బాగా లాభపడ్డారు. ఇంకొక వైపున ఎటువంటి ప్రయోజనం పొందని ప్రజలు అధిక సంఖ్యలో ఉన్నారు. ప్రపంచీకరణ ఇప్పుడు ఎవరూ కాదనలేని వాస్తవం. ప్రపంచీకరణ వల్ల అందరికీ న్యాయం జరిగేటట్లు ఎలా చెయ్యాలి అనేది మనముందున్న ప్రశ్న. న్యాయమైన ప్రపంచీకరణ అందరికీ అవకాశాలు సృష్టిస్తుంది. దాని ప్రయోజనాలు మరింత బాగా పంచుకోబడతాయి.

4. దేశాల మధ్య మార్కెట్ల అనుసంధానానికి విదేశీ వాణిజ్యం ఎలా దోహదం చేస్తుంది ? ఇక్కడ ఇచ్చినవి కాకుండా కొత్త ఉదాహరణలతో దీనిని వివరించండి. (As 4)

జ. దేశాల మధ్య అనుసంధానంగా చాలాకాలంగా వాణిజ్యం ఉంటుంది. భారతదేశం ప్రాచీన కాలం నుండి నూలు వస్త్రాలు అనేక దేశాలకు ఎగుమతి చేసింది. చైనా పట్టువస్త్రాలను ఆసియా ఖండంలోని అనేక దేశాలకు ఎగుమతి చేసేది. భారతదేశం, ఇండోనేషియా, సుగంధ ద్రవ్యాలతో వాణిజ్యం చేసినట్లు ఆధారాలున్నాయి.

5. నైక్, కోకా కోలా, పెప్సి, హోండా, నోకియా వంటి బహుళ జాతి కంపెనీలు దాదాపుగా అమెరికా, జపాను లేదా ఐరోపా దేశాలకు చెందినవే. ఎందుకో ఊహించగలరా ? (As 4)

జ. అమెరికా, జపాన్, ఐరోపా దేశాలు శాస్త్ర సాంకేతిక రంగాలలో ముందంజలో ఉండటం, సరళీకృత, ఆర్థిక విధానాలు, పెట్టుబడిదారీ వ్యవస్థ చాలా కాలంనుండి అమలులో ఉండటం వలన నైక్, కోకా కోలా, పెప్సి, హోండా, నోకియా వంటి బహుళజాతి సంస్థలు ఈ దేశాలలోని ఉద్భవించాయి.

6. మరిన్ని భారతీయ కంపెనీలు బహుళ జాతి కంపెనీలుగా ఎదగాలా? దేశంలోని ప్రజలకు దానివల్ల ప్రయోజనాలు ఏమిటి ? (As 3)

జ. ప్రపంచీకరణ వల్ల కొన్ని పెద్ద భారతీయ కంపెనీలు స్వయంగా బహుళజాతి సంస్థలుగా ఎదిగాయి. టాటామోటార్స్ (వాహనాలు), ఇన్ఫోసిస్ (IT), రాన్ బాక్సీ (మందులు) ఏషియన్ పెయింట్స్ (రంగులు) సుందరం ఫాస్టెనర్స్ (నట్టులు, బోల్టులు) వంటి భారతీయ కంపెనీలు ఇప్పుడు ప్రపంచ వ్యాప్తంగా లావాదేవీలు కలిగి ఉన్నాయి.

7. మరిన్ని విదేశీ పెట్టుబడులు ఆకర్షించడానికి ప్రభుత్వాలు ఎందుకు ప్రయత్నిస్తున్నాయి ? (As 1)

జ. పన్నుల రూపంలో ప్రభుత్వ ఆదాయం పెరుగుతుంది. తద్వారా ప్రజలకు మరిన్ని సేవలనందజేయవచ్చు. భారతీయులకు ఉద్యోగావకాశాలు పెరుగుతాయి. తద్వారా తలసరి ఆదాయాలు పెరుగుతాయి. జాతీయాదాయం కూడా పెరగడంతో పాటు దేశ విదేశీ వాణిజ్యం పెరుగుతుంది. తద్వారా విదేశీ మారకద్రవ్యాన్ని ఆర్జించవచ్చు.

8. అంతర్జాతీయ ఆర్థికమార్పిడిలతో ఎన్ని ప్రవాహాలున్నాయి ? వాటిని గూర్చి క్లుప్తంగా రాయండి. (As 1)

జ. అంతర్జాతీయ ఆర్థిక మార్పిడిలతో మనం మూడు రకాల ప్రవాహాలను గుర్తించవచ్చు. మొదటిది వస్తువుల, సేవల ప్రవాహం. రెండవది శ్రమ ప్రవాహం. (ఉపాధి కోసం వెతుక్కుంటూ ప్రజలు వలస వెళ్ళటం) మూడవది పెట్టుబడి ప్రవాహం అనగా స్వల్పకాలం లేదా దీర్ఘకాల ప్రయోజనాల కోసం దూరప్రాంతాలకు పెట్టుబడి ప్రవహించటం.

9. బహుళ జాతి సంస్థల పని ప్రదేశాన్ని ఎంచుకోవటానికి ఉపయోగించే సాధారణ సూచికలు ఏవి ? (As 1)

జ. బహుళజాతి సంస్థలు పని ప్రదేశాన్ని ఎంచుకోవటానికి ఉపయోగించే సాధారణ సూచికలు :

1. మార్కెట్లకు దగ్గరగా ఉండటం.
2. తక్కువ ఖర్చుతో నైపుణ్యం ఉన్న, నైపుణ్యం లేని కార్మికుల లభ్యత.
3. ఉత్పత్తి కారకాల లభ్యత.
4. తమ ప్రయోజనాలను కాపాడే ప్రభుత్వ విధానాలు ఉండటం మొదలైనవి.

10. “ప్రపంచీకరణ వలన జీవన ప్రమాణాలు పెరిగాయి” వివరించండి. (As 2)

జ. ప్రపంచీకరణ ఫలితంగా ప్రజల జీవితాలు ప్రభావితం అవుతున్నాయి. ప్రపంచీకరణ వల్ల వినియోగదారులు, ప్రత్యేకించి పట్టణాలలోని సంపన్నులకు మేలు జరిగింది. వీళ్ళు ఎంచుకోవడానికి ఇప్పుడు ఎన్నో వస్తువులు లభిస్తున్నాయి. అనేక ఉత్పత్తులలో నాణ్యత పెరిగి, ధరలు తగ్గాయి. ఫలితంగా ఈ ప్రజలకు అంతకుముందు సాధ్యం కానంతగా మెరుగైన జీవన ప్రమాణాలు అనుభవిస్తున్నారు.

11. ప్రత్యేక ఆర్థిక మండలి లేదా SEZ అనగానేమి ? (As 1)

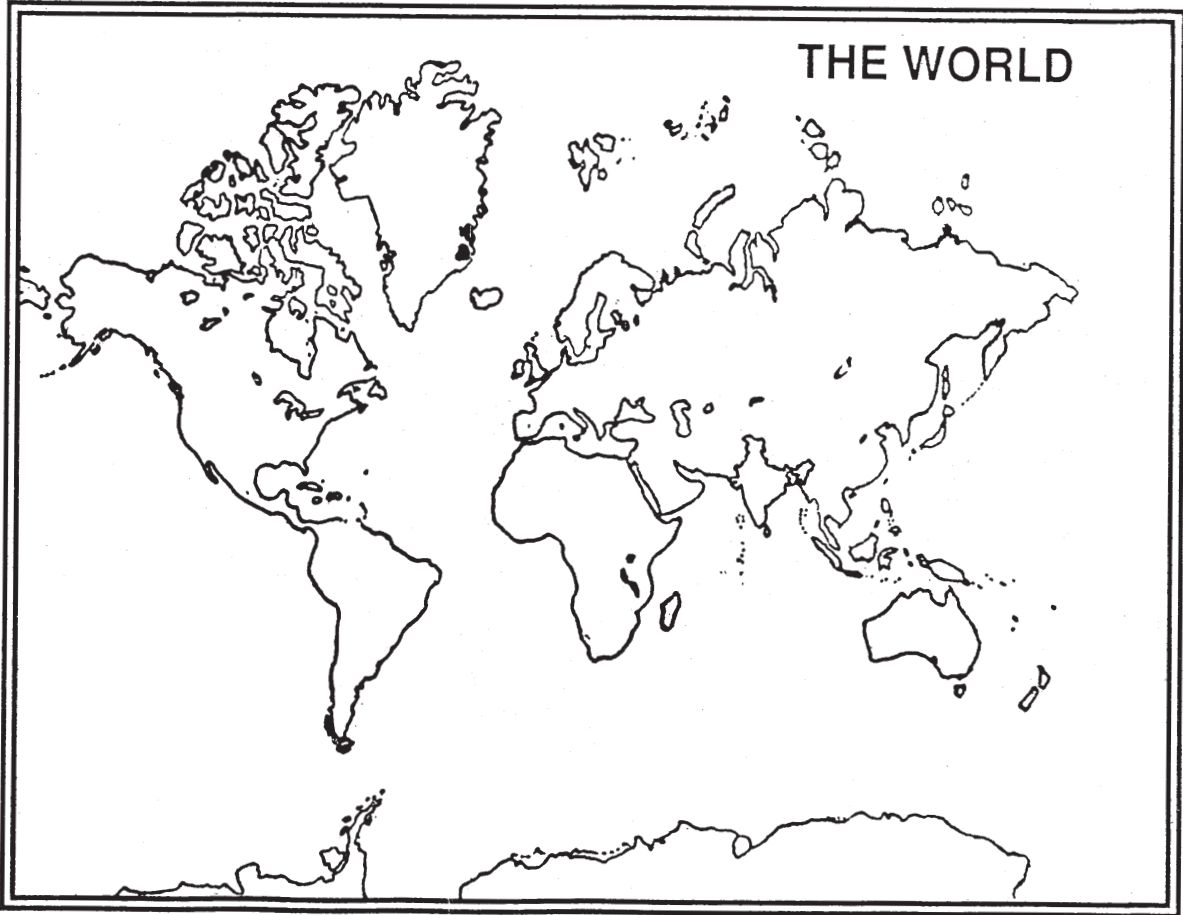
జ. భారతదేశంలో పెట్టుబడులు పెట్టేలా విదేశీ కంపెనీలను ఆకర్షించటానికి కేంద్ర, రాష్ట్ర ప్రభుత్వాలు అనేక చర్యలు చేపడుతున్నాయి. దీనిలో భాగంగా ప్రత్యేక ఆర్థిక మండలి అనే పారిశ్రామిక ప్రాంతాలను నెలకొల్పుతున్నాయి. ఈ సెజ్లలో ప్రపంచ స్థాయి సౌకర్యాలుంటాయి. విద్యుత్తు, నీళ్ళు, రోడ్లు, రవాణా, గిడ్డంగులు, విద్య, వినోద సదుపాయాలు మొదలైనవి ఉంటాయి. ప్రత్యేక ఆర్థిక మండళ్ళలో కర్మాగారాలు స్థాపించే కంపెనీలు మొదటి అయిదేళ్ళపాటు ఎటువంటి పన్నులు చెల్లించాల్సిన అవసరం లేదు.

నాలుగు మార్కుల ప్రశ్నలు

1. ఇతర కంపెనీలకు, బహుళ జాతి సంస్థలకు మధ్య తేడాలు ఏమిటి ? (As 1)
2. భారతదేశ చిన్న ఉత్పత్తిదారులు మార్కెట్లో పోటీని తట్టుకోవాలంటే మూడు అవసరాలు ఉన్నాయని ఇటీవల అధ్యయనాలు పేర్కొన్నాయి? వాటిని గురించి వివరించండి. (As 4)
3. ప్రత్యేక ఆర్థికమండళ్ళు (SEZs) ద్వారా భారతదేశంలోకి పెట్టుబడులను ఎలా ఆకర్షిస్తున్నాయి. (As 3)
4. “ప్రపంచీకరణకు సాంకేతిక పరిజ్ఞానం ముఖ్య కారణం” దీనిని నీవు సమర్థిస్తావా ? (As 6)
5. ప్రపంచీకరణ ఫలితాలు అందరికీ అందాలంటే ప్రభుత్వం ఏం చేయాలి ? (As 4)
6. ఉపాధి అవకాశాలు పెంచుటలో ప్రపంచీకరణ సహాయపడుతుందా ? వివరించండి. (As 2)
7. క్రింద ఇవ్వబడిన ప్రదేశాలను ప్రపంచపటములో గుర్తించండి. (As 5)

1. అమెరికా 2. చైనా 3. మెక్సికో
4. తూర్పు యూరోపియన్ దేశాలు :
 - i) పోలాండ్
 - ii) ఉక్రెయిన్
 - iii) రుమేనియా

- iv) బల్గేరియా
- v) చెక్ రిపబ్లిక్
- vi) స్లోవేకియా



11. ఆహారభద్రత

I. ఈ క్రింది ఖాళీలను పూరించుము.

1. 1943-45 సం॥రాలలో రాష్ట్రంలో తీవ్రమైన కరువు ఏర్పడింది. (బెంగాల్)
2. జొన్న, సజ్జ, రాగి లాంటి ధాన్యాలను అంటారు. (చిరు లేదా తృణధాన్యాలు)
3. సంవత్సరంలో లభ్యతలో ఉన్న ఆహారధాన్యాలు ÷ జనాభా = (తలసరి ఆహారధాన్యాల లభ్యత)
4. తలసరి ఆహారధాన్యాల లభ్యత ఎక్కువగా కలిగి ఉన్న దేశం (అమెరికా)
5. పట్టణ ప్రాంతంలో నివసించే వ్యక్తులు తీసుకోవలసిన కనీస కేలరీలు (2100 కాలరీలు)
6. బఫర్ నిల్వలకోసం ఆహారధాన్యాలను ప్రభుత్వం సంస్థ ద్వారా కొనుగోలు చేస్తుంది.
(భారత ఆహార సంస్థ లేదా (Food Corporation of India))
7. భారత ప్రభుత్వం జాతీయ ఆహారభద్రతా చట్టాన్ని సం॥లో చేసింది. (2013వ సం॥)
8. జాతీయ పోషకాహార సంస్థ నగరంలో కలదు. (హైదరాబాద్)
9. అంగన్వాడీకి వచ్చే పిల్లల వయస్సు సం॥ల మధ్య ఉంటుంది. (1-6 సం॥లు)
10. ప్రపంచంలో కెల్లా అత్యంత పెద్ద పాఠశాల భోజన పథకం అమలు జరుపుతున్న దేశం (భారతదేశం)
11. ఆరోగ్యవంతుని BMI (18.5)
12. వయోజనులైన స్త్రీ, పురుషులలో పోషకాహార స్థాయిని తో కొలుస్తారు.
(శరీర బరువు సూచిక లేదా (Body Mass Index (BMI))
13. ఆహార ధాన్యాలు అందుబాటులో ఉండటానికి వ్యవస్థ ఎంతో ముఖ్యమైనది (ప్రజాపంపిణీ)
14. అంత్యోదయ కార్డు ఉన్న వారికి నెలకు కిలోల ఆహారధాన్యాలు అందుతాయి. (35 కిలోలు)
15. MSP ని విస్తరించగా (Minimum Support Price (లేదా) కనీస మద్దతు ధర)
16. FCI ని విస్తరించగా (Food Corporation of India (లేదా) భారత ఆహార సంస్థ)
17. PDS ని విస్తరించగా (Public Distribution System (లేదా) ప్రజాపంపిణీ వ్యవస్థ)
18. పాఠశాలలో చదువుతున్న మంది పిల్లలు ప్రస్తుతం మధ్యాహ్న భోజనం తింటున్నారు. (14 కోట్లమంది)
19. గ్రామీణ ప్రాంతంలో నివసించే వ్యక్తులు తీసుకోవలసిన కనీస కాలరీలు (2400 కాలరీలు)
20. ICDS ని విస్తరించగా (Integrated Child Development Scheme)

21. NIN ని విస్తరించగా (National Institute of Nutrition)
22. ప్రపంచ ఆరోగ్య సంస్థ డైరెక్టర్ జనరల్ (మార్గరెట్ ఖాన్)
23. పిల్లలు తక్కువ బరువు ఉండటం అనేది రాష్ట్రంలో తక్కువగా ఉన్నది. (కేరళ)

ఒక మార్కు ప్రశ్నలు

1. ఇటీవల కాలంలో ఏ పంటకు దిగుబడులు మెల్లగా పెరుగుతున్నాయి. (As 3)
- జ. జొన్న, నూనె గింజలు.
2. తలసరి ఆహార ధాన్యాల లభ్యత అనగానేమి ? (As 1)
- జ. సగటున ప్రతి వ్యక్తికి, ప్రతిరోజూ లభ్యతలో ఉన్న ఆహార ధాన్యాలను తలసరి ఆహారధాన్యాల లభ్యత అంటారు.
3. తలసరి ఆహారధాన్యాల లభ్యతను ఎలా అంచనావేస్తారు ? (As 1)
- జ. తలసరి ఆహారధాన్యాల లభ్యత = (సంవత్సరానికి లభ్యతలో ఉన్న ఆహార ధాన్యాలు ÷ జనాభా)/365
4. భారతదేశంలో వరి, గోధుమలను పండిస్తున్న విధానం సురక్షిత పద్ధతేనా ? ఎందుకని ? (As 6)
- జ. అధిక దిగుబడుల కోసం అనుసరిస్తున్న విధానం సురక్షిత, సుస్థిర పద్ధతి కాదని శాస్త్రజ్ఞులు, వ్యవసాయరంగ నిపుణులు భావిస్తున్నారు. ఈ పద్ధతుల వల్ల నేల క్షీణతకు గురయ్యింది, భూగర్భజలాలు అంతరించి పోతున్నాయి.
5. పోషక ధాన్యాలుగా వేటికి వ్యవహరిస్తున్నారు ? ఉదాహరణలనిమ్ము. (As 1)
- జ. చిరు లేదా తృణధాన్యాలను పోషక ధాన్యాలుగా వ్యవహరిస్తున్నారు.
ఉదా : జొన్న, రాగి, సజ్జలు.
6. వ్యవసాయ వైవిధ్యీకరణ అనగానేమి ? (As 1)
- జ. ఆధునిక పద్ధతులు, విధానాలు, అవలంబించి ఆహార మరియు వాణిజ్య పంటలు మరియు వ్యవసాయ అనుబంధ పరిశ్రమలను అభివృద్ధి చేయుటను వ్యవసాయ వైవిధ్యీకరణ అంటారు.
7. బఫర్ నిల్వలు అనగానేమి ? (As 1)
- జ. భారత ప్రభుత్వం భారత ఆహార సంస్థ ద్వారా కొని నిల్వచేసే ఆహార ధాన్యాలను బఫర్ నిల్వలు అంటారు.
8. కనీస మద్దతు ధర అనగానేమి ? (As 1)
- జ. ఆహార ధాన్యాలను ప్రభుత్వం కొనుగోలు చేయు ధర. ప్రభుత్వ సంస్థ ప్రతి సంవత్సరానికి కనీస మద్దతు ధర ప్రకటిస్తుంది.
9. ప్రజాపంపిణీ వ్యవస్థ అనగానేమి ? (As 1)
- జ. ప్రభుత్వం చౌకధరల దుకాణాల ద్వారా ఆహారధాన్యాలు మరియు ఇతర నిత్యావసర వస్తువులను సబ్సిడీ ధరపై సరఫరా చేయడాన్ని ప్రజాపంపిణీ వ్యవస్థ అంటారు.

4. మీ గ్రామంలో లేదా మీకు తెలిసిన గ్రామంలో వ్యవసాయ వైవిధ్యీకరణను వివరించండి. (As 3)
5. జొన్న దిగుబడులను పెంచటంపై దృష్టి ఎందుకు పెట్టాలి ? చర్చించండి. (As 3)
6. ఆహార భద్రత అమలు అయ్యేలా చూడటంలో న్యాయ వ్యవస్థ పాత్రను వివరించుము. (As 6)
7. క్రింది పట్టికను చూసి 1971 కి చూపించిన విధంగా 1991, 2011 సంవత్సరాలకు తలసరి సగటు ఆహారధాన్యాల అందుబాటును లెక్కగట్టండి. (As 3)

పట్టిక 1. తలసరి ఆహార ధాన్యాల లభ్యత

సంవత్సరం	జనాభా (మిలియన్లు)	నికర ఆహార ధాన్యాల ఉత్పత్తి #	నికర దిగుమతులు #	ప్రభుత్వ నిల్వల్లో మార్పు #	ఆహారధాన్యాల నికర లభ్యత #	తలసరి లభ్యత ఒక రోజుకు (గ్రాముల్లో)
col (1)	col (2)	col (3)	col (4)	col (5)	col (6)	col (7)
1971	551	94.9	2	2.6		$= \{ \text{col (6)/col (2)} \} / 365$ $= (94.3/551) / 365$ $= 0.000469 \text{ టన్నులు}^*$ $= 0.000469 \times 1000$ $= 0.469 \text{ కిలోగ్రాములు}^*$ $= 0.469 \times 1000$ $= 476 \text{ గ్రాములు}$
1991	852	154.3	-0.1	-4.4		
2011	1202	214.2	-2.9	8.2		

గమనిక : 1 టన్ను = 1000 కిలోలు ; 1 కిలో = 1000 గ్రాములు ; # = మిలియన్ టన్నులు

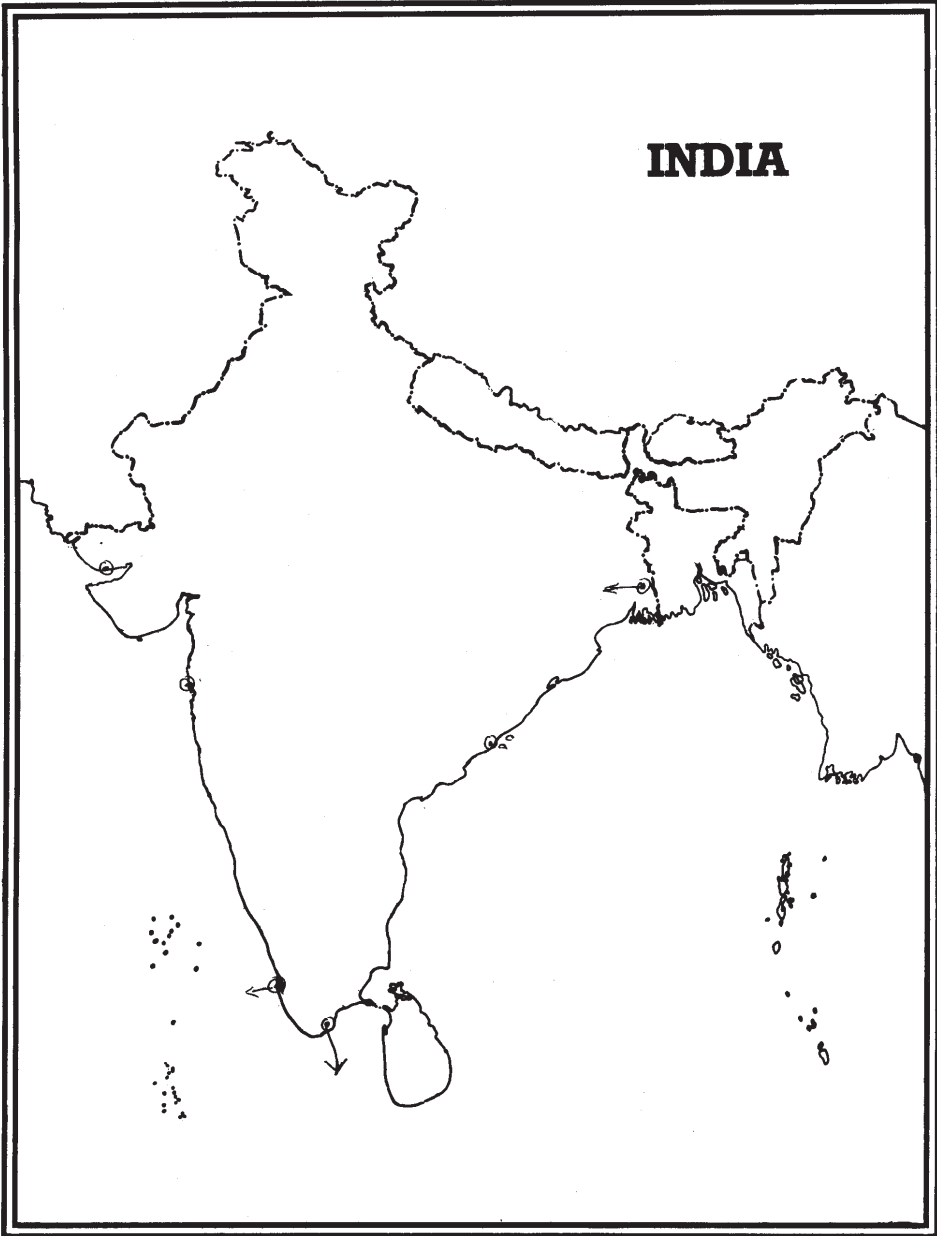
8. వారం రోజుల పాటు మీ కుటుంబ ఆహారపు అలవాట్లను విశ్లేషించి పోషకాలను వివరించండి.
9. “భారతదేశంలో పేద ప్రజలు మాత్రమే పోషకాహార లోపంతో బాధపడుతున్నారా ?” వ్యాఖ్యానించుము.

10. క్రింద ఇవ్వబడిన ప్రదేశాలను భారతదేశపటంలో గుర్తింపుము.

1. పశ్చిమ బెంగాల్ 2. ఢిల్లీ 3. హైదరాబాద్ 4. పంజాబ్ 5. తమిళనాడు 6. అస్సాం 7. బీహార్
8. గుజరాత్ 9. మహారాష్ట్ర 10. రాజస్థాన్.

EXERCISE MAP - 11

INDIA - TEXTILE INDUSTRIES
భారతదేశం - వస్త్ర పరిశ్రమలు



12. సమానత - సుస్థిర అభివృద్ధి

I. ఈ క్రింది ఖాళీలను పూరించుము.

1. అభివృద్ధిలో సామాజిక సూచికలు (విద్య, వైద్యం, పోషకాహారం)
2. వ్యవసాయం, గనుల తవ్వకం వంటివి రంగానికి చెందినవి. (ప్రాథమిక రంగులు)
3. వ్యవసాయ పరంగా సంపన్నంగా ఉన్న రాష్ట్రం (పంజాబ్)
4. “సైలెంట్ స్పింగ్” అను పుస్తకాన్ని రచించినది (రాచెల్ కార్పన్)
5. జలసింధి గ్రామం రాష్ట్రంలో కలదు. (మధ్యప్రదేశ్)
6. చిప్కో ఉద్యమం సం॥లో ఆరంభమైంది. (1970)
7. చిప్కో అంటే (హత్తుకోవడం)
8. సహజ వాయువు ఇంధనం వల్ల వాయుకాలుష్యం తగ్గిన నగరం (ఢిల్లీ)
9. రసాయనిక పురుగుమందులను నిషేధించిన మొట్టమొదటి రాష్ట్రం (సిక్కిం)
10. ప్రత్యామ్నాయ ప్రజా పంపిణీ వ్యవస్థ జిల్లాలో ప్రారంభమైంది. (మెదక్)
11. 100 శాతం సేంద్రీయ రాష్ట్రంగా మారే పంథాని కూడా అనుసరిస్తుంది. (ఉత్తరాఖండ్)
12. భూమి, అడవులు నదిపై ప్రజల హక్కుల కోసం ఉద్యమం పోరాడుతుంది. (నర్మదా బచావో)
13. చిప్కో ఉద్యమం ఉత్తరాఖండ్ రాష్ట్రంలోని కొండలలో ఆరంభమైనది. (గడ్‌వాల్)
14. చిప్కో ఉద్యమంలో ప్రధాన పాత్ర పోషించినది (మహిళలు)
15. జలసింధి గ్రామ గిరిజనుల పెద్ద దేవత (రాణి కాజోల్)
16. జలసింధి గ్రామం మధ్యప్రదేశ్‌లోని జిల్లాలో ఉంది. (ఝుబులా)
17. ఎండోసల్ఫాన్ పురుగుల మందును అధికంగా వాడిన రాష్ట్రం (కేరళ)
18. దోమలను నియంత్రించటం కోసం పిచికారి చేశారు. (DDT)
19. ఒక దేశంలో ఉత్పత్తి అవుతున్న వస్తువులు, సేవల విలువలను సూచిస్తుంది. (స్థూల జాతీయోత్పత్తి)
20. పర్యావరణం, సుస్థిరత అనేవి అన్న అంశంతో ముడిపడి ఉన్నాయి. (సమానత)
21. 1994లో మధ్యప్రదేశ్ రాష్ట్ర ముఖ్యమంత్రి (దిగ్విజయ్ సింగ్)
22. నింగోడి, హియాలి అనేవి కి చెందిన పేర్లు. (వెదురు)
23. భంగోరిసా అనేది నర్మదా లోయలో నివసించే ఆదివాసీలు (పండుగ)
24. GDP ని విస్తరించగా (స్థూల దేశీయోత్పత్తి (Gross Domestic Product))

25. జీవించే హక్కును తెలిపే ఆర్టికల్ (21)
26. భారతదేశమందలి అత్యంత పెద్ద నదీ అభివృద్ధి పథకము (నర్మదలోయ అభివృద్ధి పథకము)
27. బావా మహాలియా తన ఉత్తరాన్ని భాషలో వ్రాశాడు. (భీలాలా)
28. రాచెల్ కార్సన్ 'నిశ్శబ్ద వసంతం' అనే గ్రంథాన్ని సం॥లో వ్రాశారు. (1962)
29. ధారవి అనే మురికివాడ లో కలదు. (ముబాయి)
30. ఎండో ఏల్ఫాన్ అనునది ఒక (రసాయన పురుగుమందు)
31. మెదక్ జిల్లాలోని జహీరాబాద్ మండలంలో గల బీడు భూములను సాగులోనికి తేవడానికి అనే స్వచ్ఛంద సంస్థ పనిచేస్తుంది. (డెక్కన్ డెవలప్ మెంట్ సొసైటీ)
32. మోటబావిత్ ఎకరాలను మాత్రమే సాగుచేయవచ్చు. (2-3 ఎకరాలు)

ఒక మార్కు ప్రశ్నలు

1. సుస్థిర అభివృద్ధి అంటే ఏమిటి ? (As 1)
- జ. భవిష్యత్ తరాలు తమ అవసరాలను తీర్చుకొనే సామర్థ్యాన్ని దెబ్బతీయకుండా ప్రస్తుత తరాల అవసరాలను తీర్చుకోవటాన్ని సుస్థిర అభివృద్ధి అంటారు.
2. ప్రాథమిక రంగ కార్యకలాపాలు ఏవి ? (As 1)
- జ. వ్యవసాయరంగం, గనుల తవ్వకం, చేపల పెంపకం మొదలైనవి.
3. ఆర్థికాభివృద్ధిలో పర్యావరణం అందించే సామర్థ్యాన్ని ఏమంటారు ? (As 1)
- జ. వనరులను అందించటంలో పర్యావరణ సామర్థ్యాన్ని "పర్యావరణ వనరుల సరఫరా విధి" అంటారు.
4. పర్యావరణం నిర్వర్తించే ముఖ్య విధి ఏమిటి ? (As 6)
- జ. వివిధ కార్యక్రమాల ద్వారా విడుదలయ్యే వ్యర్థాలను శుద్ధిచేసి, ప్రమాదరహితంగా చేయుట.
5. రాచెల్ కార్సన్ రాసిన పుస్తకమేది ? అందులో ఏముంది ? (As 1)
- జ. రాచెల్ కార్సన్ అన్న మహిళ 'సైలెంట్ స్ప్రింగ్' అన్న పుస్తకం వ్రాసింది. దోమల నియంత్రణ కోసం డిడిటి, పిచికారీ చెయ్యటం వల్ల మనుష్యుల పైన, పక్షుల పైనా పడే ప్రభావం గురించి వివరించింది.
6. ఎండో పల్ఫాన్ పురుగుమందు దుష్ఫలితాలేవి ? (As 3)
- జ. గాలి, నీళ్ళు మొత్తం పర్యావరణం ఎండో పల్ఫాన్ తో కలుషితమైనది. ప్రజల మీద దాని ప్రభావం ఎక్కువగా పడింది. దీని పిచికారి వల్ల వ్యవసాయ కూలీలలో తీవ్ర ఆరోగ్య సమస్యలు ఏర్పడినవి. చాలామంది అవయవ లోపాలకు, కాన్సర్ కు గురయి దారుణమైన జీవితాన్ని గడుపుతున్నారు.

7. చిపోక్కి ఉద్యమం ఎందుకు మొదలైంది ? (As 4)

జ. చెట్లు నరకటాన్ని అడ్డుకుని, గుత్తేదార్లు, కాంట్రాక్టర్ల నుండి ముప్పును ఎదుర్కొంటున్న గడ్డవాల్ కొండవాసుల సంప్రదాయ అటవీ హక్కుల కోసం చిపోక్కి ఉద్యమం ప్రారంభమైనది.

8. ప్రత్యామ్నాయ ప్రజాపంపిణీ వ్యవస్థ ద్వారా చేపట్టే కార్యక్రమాలేవి ? (As 4)

జ. వర్షాధార భూములను సాగులోకి తేవటం, పంట బయట అమ్మకం, గ్రామస్థాయిలో ప్రజాధాన్య బ్యాంక్‌ను ప్రారంభించడం, ప్రజాపంపిణీ వ్యవస్థ మాదిరి పనిచేయడం, ప్రత్యామ్నాయ ప్రజాపంపిణీ వ్యవస్థ ద్వారా చేపట్టే కార్యక్రమాలు.

9. ప్రాథమిక హక్కులలోని జీవించే హక్కు ఏమి చెపుతుంది ? (As 6)

జ. రాజ్యాంగమందలి 21వ ఆర్టికల్ జీవించే హక్కును మనకు ప్రసాదించింది. దీని ద్వారా జీవితాన్ని పూర్తిగా ఆనందించటానికి, కాలుప్య రహిత నీటిని, గాలిని పొందే హక్కు ఉంటుందని సుప్రీంకోర్టు తీర్పు చెప్పింది.

10. మిశ్రమ పంటల వలన లాభమేమి ? (As 3)

జ. మిశ్రమ పంటల వల్ల ఒక పురుగు తీవ్ర నష్టం కలిగించే స్థాయికి చేరకుండా నిరోధింపబడుతుంది. సాగుచేసే పంటల నేలకి, మనుషులకు, పశువులకు సమతుల పోషకాహారాన్ని ఇచ్చేలా ఎంపిక చేస్తారు.

11. చిపోక్కి ఉద్యమ నాయకుడెవరు ? (As 3)

జ. సుందర్‌లాల్ బహుగుణ చిపోక్కి ఉద్యమ నాయకుడు.

12. H.D.I ని విస్తరించుము. (As 1)

జ. Human Development India

13. NBA ని విస్తరింపుము.

జ. Narmada Bachao Andolan.

రెండు మార్కుల ప్రశ్నలు

1. “ఇది మా పూర్వీకుల భూమి, దీనిపై మాకు హక్కు ఉంది. దీనిని కోల్పోతే మా చేతికి పాఠలు, గడ్డపాఠలు వస్తాయి తప్ప ఇంకేమి మిగలదు” అన్న బావా మహాలియా మాటలను వివరించండి. (As 2)

జ. అనాదిగా బావా మహాలియా పూర్వీకులు అడవులను నరికి పోడు వ్యవసాయం ద్వారా చదును చేసి, కష్టించి, అటవీభూములు తామే సాగుచేస్తున్నందున ఆ భూముల యజమానులుగా తలచి దర్జాగా అడవి మీద, వ్యవసాయం మీద ఆదిపత్యం పొందారు. అభివృద్ధి పేరుతో, పునరావాసం పేరుతో అక్కడనుండి ఖాళీ చేయిస్తే వ్యవసాయ భూములపై యజమానులుగా ఉన్నవాళ్ళు వ్యవసాయ కూలీలుగా మారి చేతికి పాఠలు, గడ్డపాఠలు, పలుగులు వచ్చి పేదరికంలో కూరుకుపోతారని, సంతోషంలేని జీవితాలను గడపాలని మహాలియా భావన.

2. భూగర్భజలాలను ఎక్కువగా తోడటం సుస్థిర పద్ధతి ఎందుకు కాదు ? (As 4)

జ. సంప్రదాయ వ్యవసాయంలో వర్షపు నీటిద్వారా భూగర్భజలాలు పెరిగే విధంగా తర్వాతి కాలంలో విద్యుత్, డీజిల్ మోటార్లతో భూగర్భజలాలను తోడటం మొదలైన తర్వాత భూగర్భజలం కొన్ని వందల అడుగుల లోపలకు వెళ్ళిపోయింది. లోపలికి ఇంకే నీటికంటే తోడే నీళ్ళు ఎక్కువవడం వలన భవిష్యత్తు తరాలు నీటికోసం యుద్ధాలు చేసే పరిస్థితులు కావస్తున్నాయి. కాబట్టి భూగర్భజలాలను ఎక్కువగా తోడటం సుస్థిర పద్ధతి కాదు.

3. నీటిని ఉమ్మడి ఆస్తిగా ఎందుకు పరిగణించాలి ? (As 1)

జ. నీరే జీవనాధారం. ప్రాణాధారం. నీరు లేకుండా ఏ జీవి జీవనం సాగించడం దుర్లభం. ప్రకృతిలో కురిసే వానల వలన పారే నీరు భూగర్భజలంలోకి చేరుతుంది. అంతేకాకుండా సహజవనరులైన సెలయేళ్ళు, నదులు, కాలువలు, జలాశయాలు, ఆనకట్టల ద్వారా ఆయా ప్రాంతాలకు చెందిన వారందరికీ నీరు ఉమ్మడి ఆస్తిగా చెందుతుంది.

4. ఎండోసల్ఫాన్ వినియోగాన్ని నిలిపి వేయటానికి న్యాయస్థానానికి ఎందుకు వెళ్ళాల్సి వచ్చింది ? (As 2)

జ. ఎండోసల్ఫాన్ అనేది రసాయనిక పురుగుమందు. ఈ పురుగుల మందు అనేక రకాలుగా హానికారక ప్రభావల్ని చూపించింది. గాలి, నీరు మొత్తం పర్యావరణం ఎండో సల్ఫాన్తో కలుషితమయ్యాయి. దీనిని పిచికారి చేయడం వలన ప్రజలలో ముఖ్యంగా వ్యవసాయ కూలీలలో తీవ్ర ఆరోగ్య సమస్యలు తలెత్తాయి. దీనివల్ల కనీసం 5000 మంది చనిపోయారు. అంతకంటే ఎక్కువమంది అవయవ లోపాల వల్ల, క్యాన్సర్ వల్ల మరణం కంటే దారుణమైన జీవితాన్ని గడపగా ఆ పరిస్థితుల నుండి రక్షణ పొందేందుకు న్యాయస్థానానికి వెళ్ళవలసి వచ్చింది.

5. జలసంధి గ్రామంలోని ప్రజలకు ప్రస్తుతం ఆహార భద్రత ఉందా ? (As 2)

జ. జలసంధి గ్రామంలోని ప్రజలకు ప్రస్తుతం ఆహార భద్రత ఉంది. వ్యవసాయాన్ని అనువుగా మార్చుకొని, తక్కువ వర్షాలతో కావలసినంత ఆహారాన్ని పొందుతున్నారు. జలసంధి గ్రామంలో గిరిజనులకు కడుపు నింపేది మొక్కజొన్న, వీటితోపాటు సజ్జలు, జొన్నలు, శనగలు, మిటికెలు, మినుములు, నువ్వులు పండించి ఆహారభద్రత పొందుతున్నారు.

6. గనుల తవ్వకం వేగంగా వృద్ధి చెందడం వల్ల పర్యావరణానికి మనుషులకి ఏ విధమైన నష్టాలు జరుగుతాయి ? (As 4)

జ. గనుల తవ్వకం విచ్చలవిడిగా పెంచడం వలన అటు పర్యావరణానికి ఇటు మనుష్యులకు తీవ్ర ప్రమాదాలు దాపురిస్తున్నాయి. అటవీ ప్రాంతాలు, వివిధ జంతువులు, పక్షులు వివిధ రకాల జీవరాసులు నశించి పర్యావరణం పాడైపోతుంది. అదేవిధంగా గనులను విరివిగా తవ్వడం వలన ఆయా ప్రాంతాలలో నివసించే ప్రజలు అనేక కాలుప్య సమస్యలతో సతమతమవుతున్నారు. నీటి, వాయు కాలుష్యం వలన ఆరోగ్య సంబంధ సమస్యలు పెరుగుతున్నాయి.

7. పర్యావరణం నిర్వర్తించే అతి ముఖ్యమైన విధి ఏది ? (As 1)

జ. పర్యావరణం నిర్వర్తించే ముఖ్యమైన విధి ఏమనగా, వివిధ కార్యక్రమాల ద్వారా విడుదలయ్యే వ్యర్థాలను శుద్ధిచేసి ప్రమాదరహితంగా చేయటం. ఉత్పత్తి, వినియోగాలలో నిరుపయోగమైన ఉప ఉత్పత్తులు ఉదాహరణకు ఇంజన్ల నుండి వెలువడే పొగ, శుభ్రం చెయ్యటానికి ఉపయోగించిన నీళ్ళు, పారేసిన అట్టపెట్టెలు, వస్తువులు వంటి వాటిని పర్యావరణం శుభ్రంచేస్తుంది.

8. దోమల నియంత్రణ కోసం డిడిటి, పురుగుమందు కలిగించే అనర్థాలు ఏవి ? (As 2)

జ. డిడిటి పురుగు మందులోని భారలోహాలు పర్యావరణంలో కరిగిపోకుండా జీవులలో పేరుకునిపోతాయి. డిడిటి ఉన్నవాళ్ళు; చెరువులలోకి చేరి కలుషితం చేసినప్పుడు డిడిటిలోని విషపదార్థం ఆ చెరువుల్లోని చేపల్లో పేరుకోవటం మొదలవుతుంది. ఈ విషమోతాదు తక్కువగా ఉండి చేపలు చనిపోవు. కాని ఒక పక్షి అనేక చేపలను తిన్నప్పుడు వాటన్నిటిలో ఉండే అధిక విషమోతాదు ఆ పక్షిని చంపటానికి కారణమౌతుంది.

నాలుగు మార్కుల ప్రశ్నలు

1. జలసంధి గ్రామ ప్రజలు తమ ఊరినుంచి తరలి వెళ్ళటాన్ని ఎందుకు తిరస్కరించారు ? (As 1)

2. ప్రపంచంలో వివిధ ప్రాంతాలలో చెత్త, కాలుష్య విడుదల సమస్యలను అధిగమిస్తున్న వివిధ పద్ధతులను పేర్కొనండి. (As 3)

3. ఖనిజాలు, ఇతర వనరులను వేగంగా సంగ్రహించటం వల్ల భవిష్యత్తులో అభివృద్ధి అవకాశాలు దెబ్బతింటాయి. దీనితో మీరు ఏకీభవిస్తారా ? (As 4)

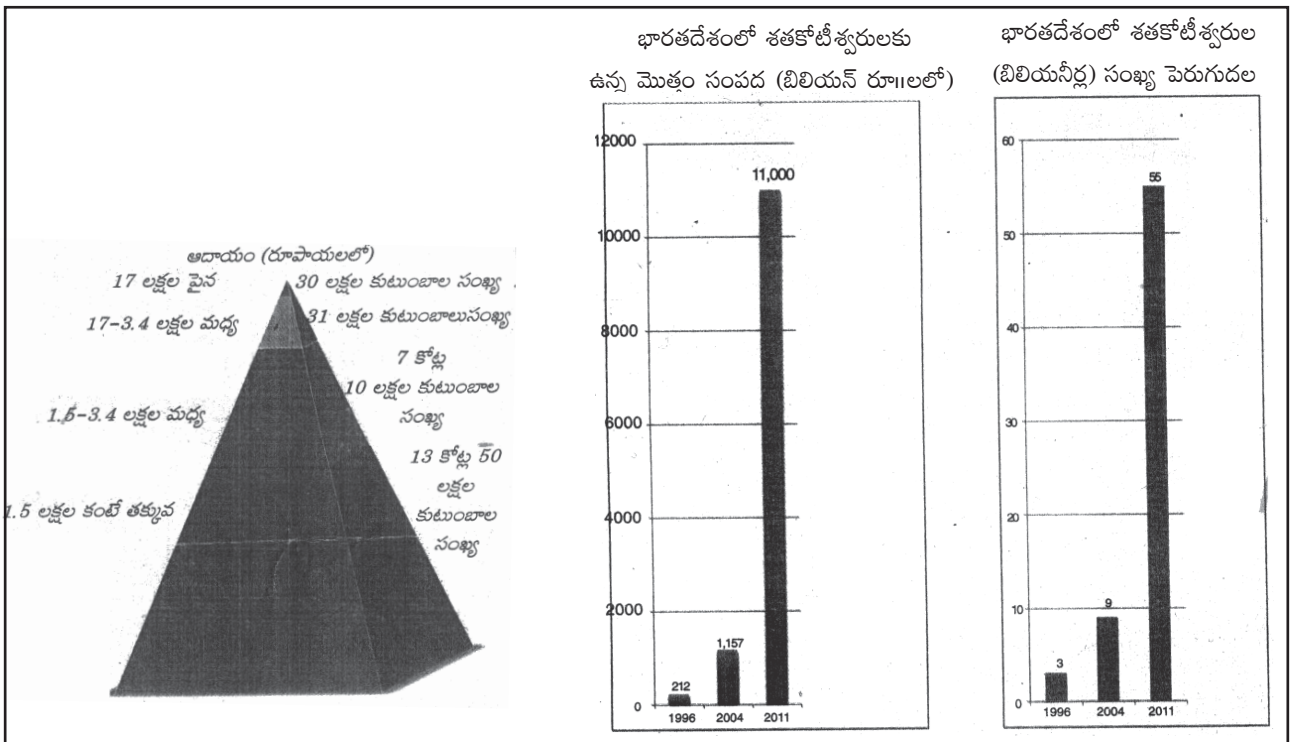
4. హరిత విప్లవం విస్తరించటం వల్ల ఎటువంటి పర్యావరణ సమస్యలు ఏర్పడ్డాయి ? దీనినుండి భవిష్యత్తుకు మనం ఎటువంటి గుణపాఠాలు నేర్చుకోవాలి ? (As 6)

5. పర్యావరణ పరిరక్షణ ప్రత్యక్షంగా ప్రభావితమయ్యే సమూహాలకే కాక మనందరికీ కూడా ఎంతో కీలకమైనది.కొన్ని ఉదాహరణలతో వివరించండి. (As 3)

6. చిపోక్కి ఉద్యమం గురించి వ్రాయండి. (As 6)

7. భారతదేశంలో నర్మదాలోయ అభివృద్ధి పథకం వలన జరిగే పర్యావరణ సమస్యలేవి ? (As 4)

8. క్రింద ఇవ్వబడిన గ్రాఫ్ల ఆధారంగా భారతదేశంలోని అంతరాల గురించి క్లుప్తంగా రాయండి. (As 2)



9. క్రింద ఇవ్వబడిన ప్రదేశాలను భారతదేశ పటంలో గుర్తించుము.

1. ముంబాయి 2. హైదరాబాదు 3. మధ్యప్రదేశ్ 4. గుజరాత్ 5. తమిళనాడు 6. కేరళ 7. పంజాబ్
8. ఉత్తరప్రదేశ్ 9. నర్మదానది 10. సర్దార్ సరోవర్ ప్రాజెక్టు 11. ఆంధ్రప్రదేశ్ 12. ఢిల్లీ

